





Station



Plustreppen

Vervollständige die Plustreppen so, dass zwei Zahlen in Feldern, die nebeneinander stehen, zusammengezählt immer die Zahl im oberen Nachbarfeld ergeben.


A

			1739	
3720		2319		




B

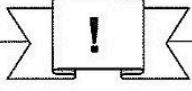
	2975			
		1251		2341

 KOHL VERLAG Stationenlernen Mathematik / 4. Schuljahr - Bestell-Nr. 11 398



Station



Schriftliche Addition

Rechne die Aufgaben schriftlich aus. Kreuze die passende Lösung an. Aus den Kennbuchstaben der richtigen Lösungen ergibt sich ein Lösungswort.

A

3	3	7	2	4
+	4	3	6	8

77418 (H)
 77408 (S)
 77508 (L)

B

6	2	6	9	1
+	1	4	7	9

77482 (T)
 77382 (M)
 77372 (U)

C

4	0	2	9	1
+	3	9	7	5

79959 (D)
 79889 (G)
 80049 (R)

D

7	2	5	7	5
+	1	9	4	5

92128 (Z)
 92018 (N)
 92028 (E)

E

1	1	6	0	8
+	2	5	3	5

36862 (M)
 36962 (I)
 36952 (L)

F

1	2	9	9	9
+	7	5	0	1

88014 (K)
 88104 (R)
 88024 (T)

Lösungswort:

A	B	C	D	E	F

