

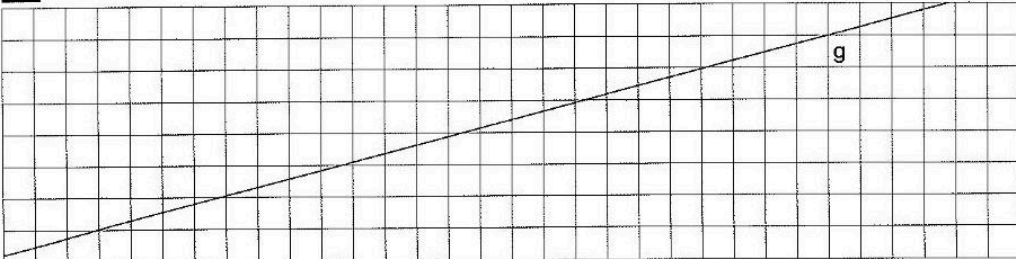


Station

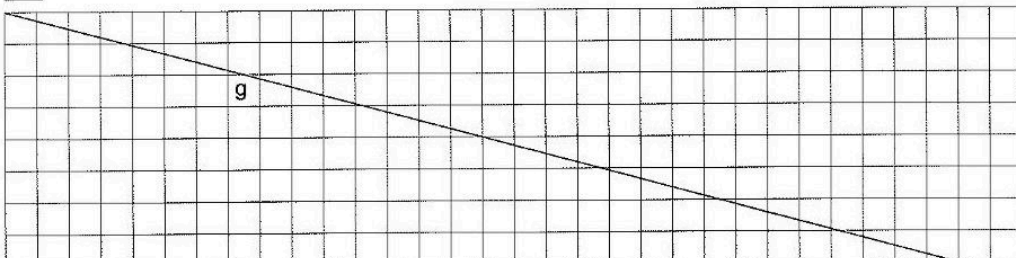




Parallel und senkrecht

A Zeichne mit dem Geodreieck vier Geraden, die parallel zu g sind.





B Zeichne mit dem Geodreieck vier Geraden, die zu g senkrecht sind.



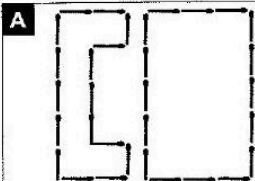
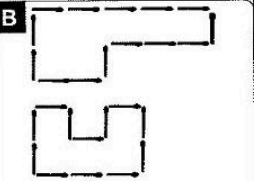
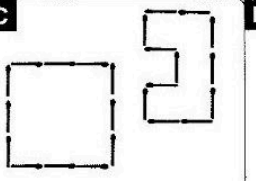
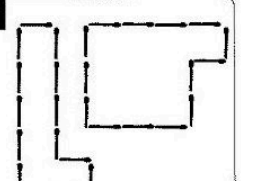
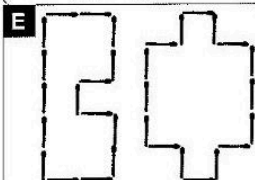
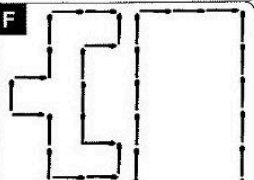
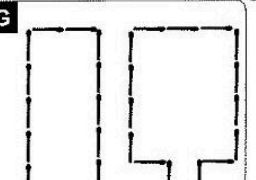



Station


Umfänge von Figuren


Sind die Umfänge der einzelnen Figuren gleich? Kreuze an. Die Buchstaben der richtigen Antworten ergeben ein Lösungswort.

A  P ja L nein	B  E ja A nein	C  P ja O nein	D  A ja P nein														
E  G ja A nein	F  E ja R nein	G  D ja I nein	Lösungswort: <table style="width: 100%; text-align: center;"> <tr> <td>A</td><td>B</td><td>C</td><td>D</td><td>E</td><td>F</td><td>G</td> </tr> <tr> <td><input type="checkbox"/></td><td><input type="checkbox"/></td><td><input type="checkbox"/></td><td><input type="checkbox"/></td><td><input type="checkbox"/></td><td><input type="checkbox"/></td><td><input type="checkbox"/></td> </tr> </table>	A	B	C	D	E	F	G	<input type="checkbox"/>	<input type="checkbox"/>	<input type="checkbox"/>	<input type="checkbox"/>	<input type="checkbox"/>	<input type="checkbox"/>	<input type="checkbox"/>
A	B	C	D	E	F	G											
<input type="checkbox"/>	<input type="checkbox"/>	<input type="checkbox"/>	<input type="checkbox"/>	<input type="checkbox"/>	<input type="checkbox"/>	<input type="checkbox"/>											



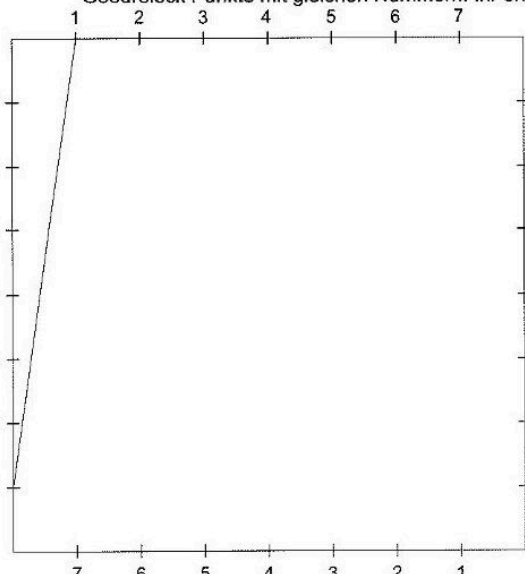
Station

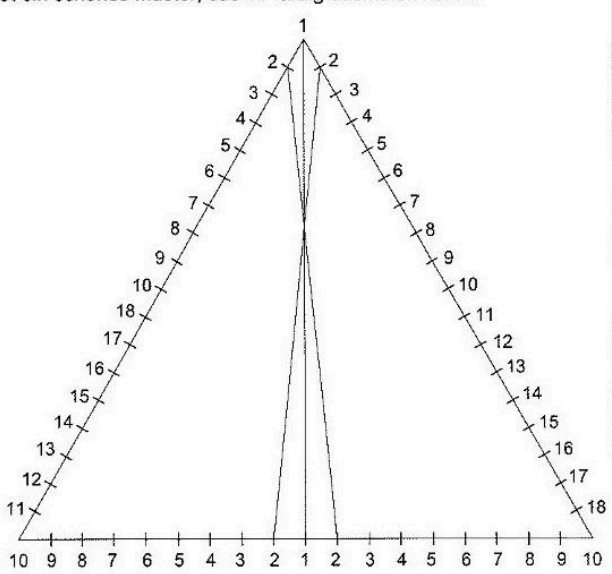





Hüllkurven


Verbindet in dem Viereck bei den *benachbarten* Seiten und in dem gleichseitigen Dreieck *über Kreuz* mit dem Geodreieck Punkte mit gleichen Nummern. Ihr erhaltet ein schönes Muster, das ihr farbig ausmalen könnt.








Station





Spiegeln im Gitternetz

Zeichne jeweils die Spiegelbilder.

A	B	C
D	E	F