





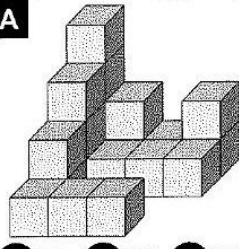
**Station**



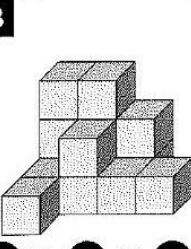
**Würfelgebilde**  
 Aus wie vielen Würfeln bestehen die einzelnen Gebilde? Die Kennbuchstaben der richtigen Antworten ergeben ein Lösungswort.

**A**



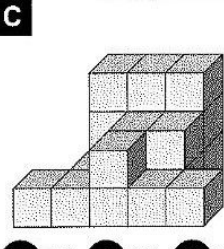
**F** 19 **H** 20 **J** 21

**B**



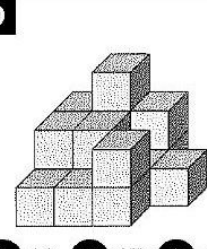
**U** 14 **R** 15 **E** 16

**C**



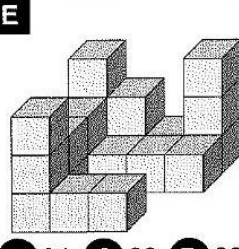
**R** 18 **I** 19 **N** 20

**D**



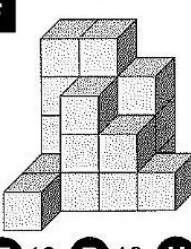
**I** 16 **D** 17 **S** 18

**E**



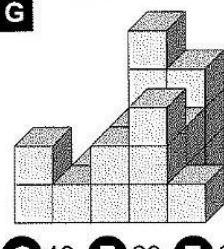
**E** 21 **C** 22 **B** 23

**F**



**E** 18 **R** 19 **H** 20

**G**



**O** 19 **E** 20 **T** 21

Lösungswort:

<b>A</b>	<b>B</b>	<b>C</b>	<b>D</b>	<b>E</b>	<b>F</b>	<b>G</b>



**Station**








**Achsensymmetrische Buchstaben**  
 Streiche alle Buchstaben, die nicht achsensymmetrisch sind. Gibt es Buchstaben, die zwei Symmetrieachsen haben?

A B C D E F G




H I J K L M N


O P Q R S T U

V W X Y Z



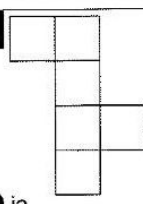

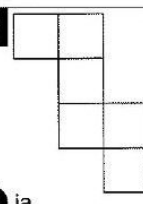
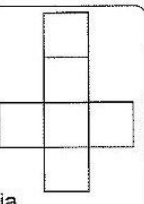
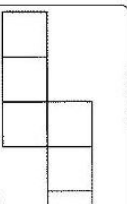





## Station




### Würfelnetze

Lässt sich aus den Netzen jeweils ein Würfel zusammenfalten? Kreuze an. Die Kennbuchstaben bei den richtigen Antworten ergeben ein Lösungswort.




<b>A</b>		<b>B</b>		<b>C</b>		<b>D</b>		<b>E</b>	
<b>M</b> ja		<b>U</b> ja		<b>S</b> ja		<b>T</b> ja		<b>S</b> ja	
<b>A</b> nein		<b>A</b> nein		<b>E</b> nein		<b>R</b> nein		<b>O</b> nein	
<b>F</b>		<b>G</b>		<b>H</b>		<b>I</b>		<b>J</b>	
<b>P</b> ja		<b>H</b> ja		<b>T</b> ja		<b>E</b> ja		<b>E</b> ja	
<b>C</b> nein		<b>I</b> nein		<b>S</b> nein		<b>Z</b> nein		<b>N</b> nein	


Lösungswort:

<b>A</b>	
<b>B</b>	
<b>C</b>	
<b>D</b>	
<b>E</b>	
<b>F</b>	
<b>G</b>	
<b>H</b>	
<b>I</b>	
<b>J</b>	



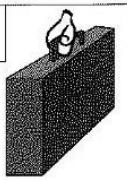


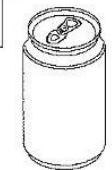

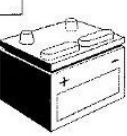

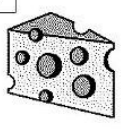


## Station



### Geometrische Körper im Alltag

Kreuze den Körper an, den du in den Abbildungen entdecken kannst. Aus den Kennbuchstaben der richtigen Antworten ergibt sich ein Lösungswort.

<b>A</b>		<b>B</b>		<b>C</b>		<b>D</b>		<b>E</b>	
<b>N</b> Quader		<b>O</b> Kegel		<b>S</b> Kugel		<b>C</b> Zylinder		<b>E</b> Würfel	
<b>M</b> Würfel		<b>A</b> Pyramide		<b>N</b> Kegel		<b>T</b> Kegel		<b>H</b> Quader	
<b>F</b>		<b>G</b>		<b>H</b>		<b>I</b>		<b>J</b>	
<b>K</b> Quader		<b>A</b> Kegel		<b>T</b> Prisma		<b>Z</b> Kegel		<b>O</b> Kegel	
<b>V</b> Würfel		<b>I</b> Prisma		<b>D</b> Kegel		<b>E</b> Zylinder		<b>E</b> Zylinder	

Lösungswort:

<b>A</b>	
<b>B</b>	
<b>C</b>	
<b>D</b>	
<b>E</b>	
<b>F</b>	
<b>G</b>	
<b>H</b>	
<b>I</b>	
<b>J</b>	