

Station 3 - Spuren im Sand

- ① Schaut euch die Videos kurz an.
Beschreibt die Art der Fortbewegung.



Wie du den QR-Code scannst

Öffne die Kamera-App auf deinem Handy oder suche im Play Store nach „QR Code Secuso“. Diese App ist kostenlos und datenschutzfreundlich.
Viel Erfolg!



 Schildkröte



 Eidechse



 Schlange



Hilfe:

Geht in Richtung Zwergmangustenhäuser und beobachtet die Pantherschildkröten.

Wie bewegen sie sich ?


Sind sie schnell und beweglich, oder langsam und schwerfällig?

Kann man die Spuren im Sand sehen ?

Station 3 - Spuren im Sand

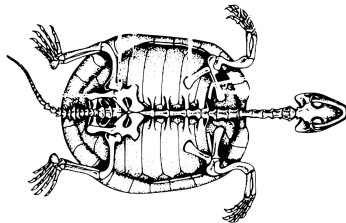
- ② Zeichne die Spuren der Pantherschildkröten im Sand nach.

*Aber warum bewegen sich Reptilien so eigenartig ?
Das liegt am Körperbau der Tiere und der Stellung der Gliedmaßen !*

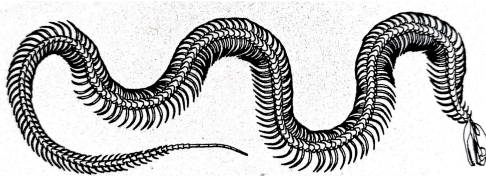


Hier kannst du zeichnen.

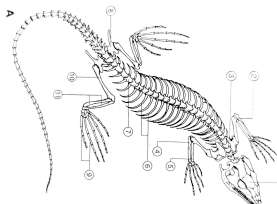
- ③ Schaut euch die Abbildungen der Skellette an.
Welche Besonderheiten lassen sich feststellen?
Wie ist die Stellung der Gliedmaßen?



Skelett Schildkröte



Skelett Schlange



Skelett Echse

