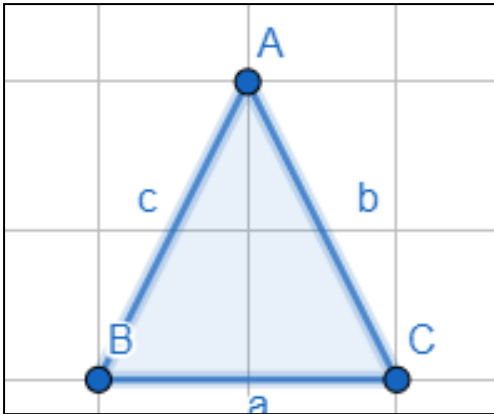


- ① Benenne die Formen und schreibe die Formel für den Flächeninhalt darunter

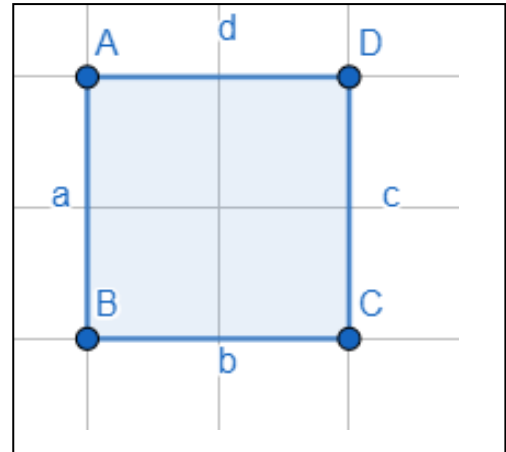
Diese Fläche heisst



Formel:

$A = \underline{\hspace{2cm}}$

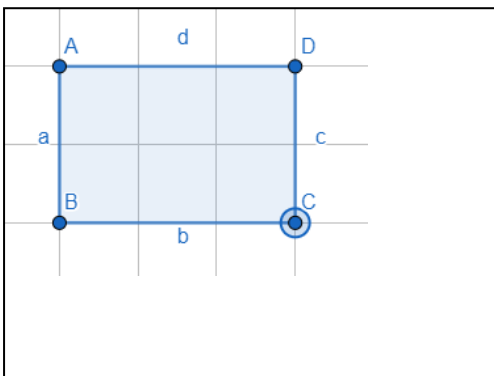
Diese Fläche heisst



Formel:

$A = \underline{\hspace{2cm}}$

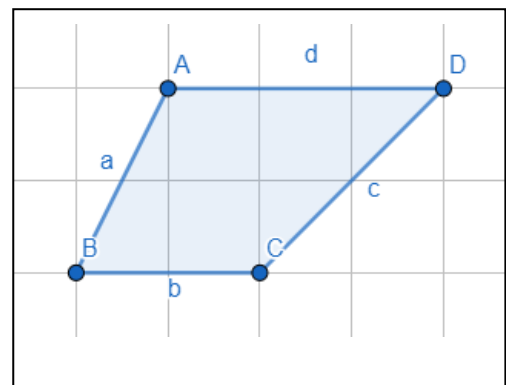
Diese Fläche heisst



Formel:

$A = \underline{\hspace{2cm}}$

Diese Fläche heisst



Formel:

$A = \underline{\hspace{2cm}}$