
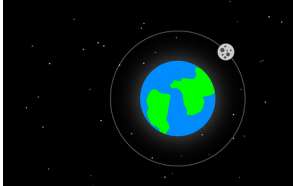


① Richtig oder falsch? Kreuze an.

	richtig	falsch	
Die Sonne dreht sich um die Erde.			
Der Mond dreht sich um die Erde.			
Die Erde dreht sich um sich selbst.			
Erde und Mond drehen sich um die Sonne.			


② Verbinde die richtige Antwort mit der Frage!

Wie lange braucht die Erde um die Sonne einmal zu umkreisen?	24 Stunden
Wie lange braucht die Erde um sich einmal um sich selbst zu drehen?	12 Monate
Wie lange dauert ein Tag?	1 Tag

③ a) Welche Planeten sind hier abgebildet? Beschrifte die folgende Darstellung richtig.

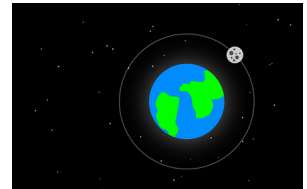
b) Setze die Zeitangaben zu den richtigen Umlaufbahnen.

- **365 Tage**- , -**24 Stunden**- , -**27,3 Tage**-



④ Richtig oder falsch? Kreuze an.

	richtig	falsch
Die Sonne dreht sich um die Erde.		
Der Mond dreht sich um die Erde.		
Die Erde dreht sich um sich selbst.		
Erde und Mond drehen sich um die Sonne.		



⑤ Verbinde die richtige Antwort mit der Frage!

Wie lange braucht die Erde um die Sonne einmal zu umkreisen?

24 Stunden

Wie lange braucht die Erde um sich einmal um sich selbst zu drehen?

12 Monate

Wie lange dauert ein Tag?

1 Tag

⑥ a) Welche Planeten sind hier abgebildet? Beschrifte die folgende Darstellung richtig.
- **Erde**-, **Sonne**-, **Mond**-

