



- ① Einige Prozentangaben finden wir oft im Alltag. Ergänze die Tabelle

Skizze	Anteil als Bruch	Anteil als Hunderstelbruch	Dezimalzahl	Prozent
	$\frac{1}{2}$	$\frac{50}{100}$	0,5	50%
			0,75	
		$\frac{1}{100}$		
		$\frac{20}{100}$		
				25%


- ② Beim Handballspiel hat Joe drei von 15 Toren getroffen. Wie viel Prozent seiner Würfe waren erfolgreich?



- ③ Der Download eines Computers zeigt 60% an wie viel Prozent der Updates müssen noch laden?



- ④ Ein parr schuhe ist um 20% redutziert
Wie viel prozent musst du noch für die Schuhe bezahlen?



- ⑤ gib die Prozente und die dazugehörigen brüche an!

