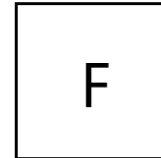
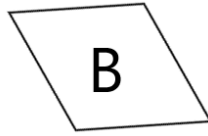
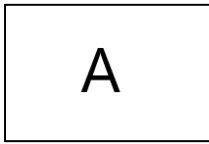


- ① Hier sind verschiedene Vierecke abgebildet. Welche dieser Vierecke sind Parallelogramme? Begründe deine Aussage.



A ist ein / kein Parallelogramm, weil ...

---

---

B ist ein / kein Parallelogramm, weil ...

---

---

C ist ein / kein Parallelogramm, weil ...

---

---

D ist ein / kein Parallelogramm, weil ...

---

---

E ist ein / kein Parallelogramm, weil ...

---

---