


Flächenberechnung vom Parallelogramm

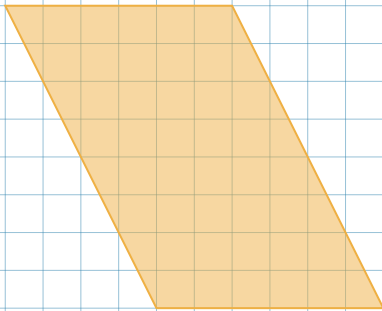
① Bestimme den Flächeninhalt der Parallelogramme.

1



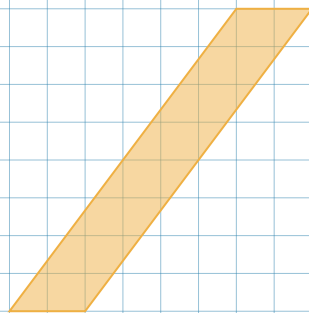
Rechnung

2



Rechnung

3



Rechnung

② Formuliere eine Regel, mit der man die Fläche jedes Parallelogramm berechnen kann.