


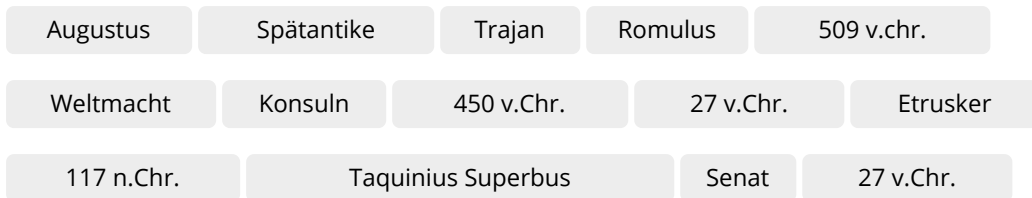
1. Ein Überblick der Phasen der römischen Geschichte

Niveau: A

- ① **Informiere** dich in den Erklärvideos M1 bis M3 über die Phasen der Geschichte der Weltmacht Rom.



- ② **Ergänze** den Lückentext zu den Phasen der römischen Geschichte zwischen 753 v.Chr. bis 284 n. Chr.



753 v. Chr. - 509 v. Chr.

Königszeit

Der erste König von Rom hieß _____ und war zugleich Namensgeber. In der Königszeit herrschte das Volk der _____. Der letzte König von Rom hieß _____, dieser wurde _____ aus der Stadt vertrieben.

509/450 v. Chr. - 27 v. Chr.

Republik

Die Republik in Rom wurde _____ ausgerufen. An deren Spitze standen zwei _____, aber auch der _____ entschied bedeutend mit. Der Herrschaftsbereich dehnte sich aus und Rom wurde zur _____. Durch die Alleinherrschaft _____ 31 v. Chr. endete die Republik _____.

27 v. Chr. - 284 n. Chr.

Kaiserzeit

Der erste Kaiser des Römischen Reiches war _____. Im Jahr _____ erreichte das römische Herrschaftsgebiet unter Kaiser _____ seine größte Ausdehnung. Die _____ läutete das Endes des Römischen Reiches ein.



Nun kennst du dich schon gut mit der Entstehung der Weltmacht Rom aus. Teste dich selbst im Quiz M5. Viel Erfolg!

- ③ **Prüfe** dein Wissen im Quiz M5.



M5: Quiz
<https://t1p.de/u52p>

2. Im Geldbeutel der Römer

- ① **Informiere** Dich im Erklärvideo über die Recherche historischer Münzen.



M6: Erklärvideo
<https://t1p.de/647n>

- ② **Überprüfe** dein Wissen zur Recherche historischer Münzen mit dem Quiz M7.



M7: Quiz
<https://t1p.de/4caa>

- ③ **Recherchiere** nun selbstständig die Münze Q1 im Virtuellen Münzkabinett M8.

Vorderseite



Rückseite



M8: Virtuelles Münzkabinett
<https://t1p.de/jpsj>

Q1: Münze: *Kaiser Augustus, 19 v. Chr., Silber*

Du hast die Münze gefunden? Im nächsten Schritt kannst du herausfinden, ob du richtig liegst, indem du mit der Münze persönlich chattest.

- ④ **Informiere** dich im Chat M9 weiter zur Münze Q1.



M9: Münzchat
<https://t1p.de/98t9>

- ⑤ **Überlege** gemeinsam mit einer Mitschülerin/ einem Mitschüler, weshalb gerade Kaiser Augustus auf der Münze abgebildet war. (Welche Vorteile kann dies für ihn gehabt haben etc...)



Tipp:

Denk daran, im Römischen Reich gab es noch kein Fernsehen, kein Internet und keine Zeitungen!

⑥ **Lege** einen **Steckbrief** zur Münze Q1 **an**.

MÜNZSTECKBRIEF



1 ART DER MÜNZE



2 ENTSTEHUNGSZEIT



3 HERKUNFT



4 HEUTIGER STANDORT



5 BESCHREIBUNG DER VORDERSEITE DER MÜNZE




6 BESCHREIBUNG DER RÜCKSEITE DER MÜNZE




M11: Münzsteckbrief
<https://t1p.de/tpim>

Nutze die Antworten der Münze aus dem Münzchat M9

TIPP: Du kannst hier auf dem Blatt oder auf M11 digital arbeiten.



Hinweis

Der deutsche Bundespräsident ist das Staatsoberhaupt. Er wird durch die Bundesversammlung und damit indirekt vom Volk für fünf Jahre gewählt. Der Euro wird gilt in mehreren Ländern der Europäischen Union als Zahlungsmittel.

M10: Steckbrief zur Münze Q1

⑦ **Beurteile**, ob es sinnvoll wäre, in der heutigen Zeit die Münzen in Deutschland mit dem neuen Bundespräsidenten/in zu prägen.

3. Die Ausdehnung des Römischen Reiches zw. 320 v. Chr. bis 405 n. Chr.

- ① **Informiere** dich in der animierten Geschichtskarte M12 über die Ausdehnung des Römischen Reiches von 320 v. Chr. bis 405 n. Chr.



M12: Karten
<https://t1p.de/xyc9>

- ② **Ordne** den Geschichtskarten zur Ausdehnung des Römischen Reiches die entsprechenden Jahreszahlen und Oberbegriffen im Quiz M13 zu.



M13: Quiz
<https://t1p.de/jwgs>



Hinweis

Nutze als Hilfestellung den Lückentext aus 1.2 und die Geschichtskarten M12.

- ③ **Fasse** anhand der folgenden zwei Geschichtskarten (M14 und M15) die Entwicklung des Römischen Reiches **zusammen** und **interpretiere** diese kurz. Du kannst auch auf M16 digital arbeiten.



M14: Römisches Reich 320 v. Chr.
Republik



M15: Römisches Reich 230 n. Chr.
Kaiserzeit



Hinweis für die Interpretation

Sieh dir beide Karten genauer an und vergleiche sie miteinander. Achte auf die Jahreszahlen und den historischen Hintergrund. Wie hat sie das Herrschaftsgebiet Roms verändert?



M16: Dokument digital
<https://t1p.de/eowp>

4. Rom - die ewige Stadt?

- ① **Informiere** dich im Erklärvideo M17 zum Vergleich Roms früher und heute.



M17: Erklärvideo
<https://t1p.de/wfb1>



Google Earth - Erkunde Rom virtuell

Partnerarbeit digital:

- ② **Wählt** euch **jeweils einen** der drei Orte der virtuellen Erkundung aus. **Recherchiert** weitere Informationen und **formuliert** jeweils einen Lexikoneintrag (M18).
Stellt euch eure Lexikoneinträge **gegenseitig vor**.



M18: Dokument digital
<https://t1p.de/pfbf>



M19: Trevi Brunnen
<https://t1p.de/7ke4>



M20: Forum Romanum
<https://t1p.de/vtao>



M21: Kolosseum
<https://t1p.de/3x9y>

- ③ **Beurteile**, weshalb Rom auch die „Ewige Stadt“ genannt wird und überlege dir eine weitere Bezeichnung.



M22: Forum Romanum, 2012, CC BY-SA 3.0, <https://t1p.de/7wlv>

1. Ein Überblick der Phasen der römische Geschichte

Niveau B

- ① **Informiere** dich in den Erklärvideos M1 bis M3 über die Phasen der Geschichte der Weltmacht Rom.



- ② **Ergänze** den Lückentext zu den Phasen der römischen Geschichte zwischen 753 v.Chr. bis 284 n.Chr.

753 v. Chr. - 509 v. Chr.

Königszeit

Der erste König von Rom hieß [] und war zugleich Namensgeber. In der Königszeit herrschte das Volk der []. Der letzte König von Rom hieß [], dieser wurde [] aus der Stadt vertrieben.

509/450 v. Chr. - 27 v. Chr.

Republik

Die Republik in Rom wurde [] ausgerufen. An deren Spitze standen zwei [], aber auch der [] entschied bedeutend mit. Der Herrschaftsbereich dehnte sich aus und Rom wurde zur []. Durch die Alleinherrschaft [] 31 v. Chr. endete die Republik [].

27 v. Chr. - 284 n. Chr.

Kaiserzeit

Der erste Kaiser des Römischen Reiches war []. Im Jahr [] erreichte das römische Herrschaftsgebiet unter Kaiser [] seine größte Ausdehnung. Die [] läutete das Ende des Römischen Reiches ein.



Nun kennst du dich schon gut mit der Entstehung der Weltmacht Rom aus. Teste dich selbst im Quiz M5. Viel Erfolg!

- ③ **Prüfe** dein Wissen im Quiz M5.



M5: Quiz
<https://t1p.de/u52p>

2. Im Geldbeutel der Römer

- ① **Informiere** Dich im Erklärvideo über die Recherche historischer Münzen.



M6: Erklärvideo
<https://t1p.de/647n>

- ② **Überprüfe** dein Wissen zur Recherche historischer Münzen mit dem Quiz M7.



M7: Quiz
<https://t1p.de/4caa>

- ③ **Recherchiere** nun selbstständig die Münze Q1 und Q2 im Virtuellen Münzkabinett M8.

Vorderseite



Rückseite



**M8: Virtuelles
Münzkabinett**
<https://t1p.de/jpsj>

Q1: Münze: *Kaiser Augustus, 19 v. Chr., Silber*

Du hast die Münze gefunden? Im nächsten Schritt kannst du herausfinden, ob du richtig liegst, indem du mit der Münze persönlich chattest.

- ④ **Informiere** dich im Chat M9 weiter zur Münze Q1.



M9: Münzchat
<https://t1p.de/98t9>

- ⑤ **Überlege** gemeinsam mit einer Mitschülerin/ einem Mitschüler, weshalb gerade Kaiser Augustus auf der Münze abgebildet war. (Welche Vorteile kann dies für ihn gehabt haben etc.)

⑥ **Lege** einen **Steckbrief** zur Münze Q1,Q2 **an**.

MÜNZSTECKBRIEF



1 ART DER MÜNZE



2 ENTSTEHUNGSZEIT



3 HERKUNFT



4 HEUTIGER STANDORT



5 BESCHREIBUNG DER VORDERSEITE DER MÜNZE



6 BESCHREIBUNG DER RÜCKSEITE DER MÜNZE

M10: Steckbrief zur Münze Q1, Q2

M11: Münzsteckbrief
<https://t1p.de/tpim>

Nutze die Antworten der Münze aus dem Münzchat M9

TIPP: Du kannst hier auf dem Blatt oder auf M11 digital arbeiten.

⑦ **Beurteile**, ob es sinnvoll wäre, in der heutigen Zeit die Münzen in Deutschland mit dem neuen Bundespräsidenten/in zu prägen.

3. Die Ausdehnung des Römischen Reiches zw. 320 v.Chr. bis 405 n. Chr.

- ① **Informiere** dich in der animierten Geschichtskarte M12 über die Ausdehnung des Römischen Reiches von 320 v. Chr. bis 405 n. Chr.



M12: Karten
<https://t1p.de/xyc9>

- ② **Ordne** den Geschichtskarten zur Ausdehnung des Römischen Reiches die entsprechenden Jahreszahlen und Obergriffe im Quiz M13 zu.



M13: Quiz
<https://t1p.de/jwgs>

- ③ **Fasse** anhand der folgenden zwei Geschichtskarten (M14 und M15) die Entwicklung des Römischen Reiches **zusammen** und **interpretiere** diese kurz. Du kannst auch auf M16 digital arbeiten.



M14: Römisches Reich 320 v. Chr.
Republik



M15: Römisches Reich 230 n. Chr.
Kaiserzeit



M16: Dokument digital
<https://t1p.de/eowp>

4. Rom - die ewige Stadt?

- ① **Informiere** dich im Erklärvideo M17 zum Vergleich Roms früher und heute.



M17: Erklärvideo
<https://t1p.de/wfb1>



Google Earth - Erkunde Rom virtuell

Partnerarbeit digital:

- ② **Wählt** euch **jeweils einen** der drei Orte der virtuellen Erkundung aus. **Recherchiert** weitere Informationen und **formuliert** jeweils einen Lexikoneintrag (M18).
Stellt euch eure Lexikoneinträge **gegenseitig vor**.



M18: Dokument digital
<https://t1p.de/pfbf>



M19: Trevi Brunnen
<https://t1p.de/7ke4>



M20: Forum Romanum
<https://t1p.de/vtao>



M21: Colloseum
<https://t1p.de/3x9y>

- ③ **Beurteile**, weshalb Rom auch „die Ewige Stadt“ genannt wird und überlege dir eine weitere Bezeichnung.



M22: Forum Romanum, 2012, CC BY-SA 3.0, <https://t1p.de/7wlv>

1. Ein Überblick der römischen Geschichte

Erwartungshorizont

① **Informiere** dich in den Erklärvideos M1 bis M3 über die Phasen der Geschichte der Weltmacht Rom.

② **Ergänze** den Lückentext zu den Phasen der römischen Geschichte zwischen 753 v.Chr. bis 284 n. Chr.

**753 v.
Chr. - 509
v. Chr.**

Königszeit

Der erste König von Rom hieß **Romulus** und war zugleich Namensgeber. In der Königszeit herrschte das Volk der **Etrusker**. Der letzte König von Rom hieß **Tarquinius Superbus**, dieser wurde **509 v.Chr.** aus der Stadt vertrieben.

**509/450 v.
Chr. - 27
v. Chr.**

Republik

Die Republik in Rom wurde **450 v.Chr** ausgerufen. An deren Spitze standen zwei **Konsuln**, aber auch der **Senat** entschied bedeutend mit. Der Herrschaftsbereich dehnte sich aus und Rom wurde zur **Weltmacht**. Durch die Alleinherrschaft Octavians 31 v. Chr. endete die Republik **27 v.Chr.**.

**27 v. Chr.
- 284 n.
Chr.**

Kaiserzeit

Der erste Kaiser des Römischen Reiches war **Augustus**. Im Jahr **117 n.Chr.** erreichte das römische Herrschaftsgebiet unter Kaiser **Trajan** seine größte Ausdehnung. Die **Spätantike** läutete das Ende des Römischen Reiches ein.

③ **Prüfe** dein Wissen im Quiz M5.

Richtige Lösungen werden im Quiz angezeigt.

2. Im Geldbeutel der Römer

- ① **Informiere** Dich im Erklärvideo über die Recherche historischer Münzen.
- ② **Überprüfe** dein Wissen zur Recherche historischer Münzen mit dem Quiz M7.
- ③ **Recherchiere** nun selbstständig die Münze Q1 und Q2 im Virtuellen Münzkabinett M8.



Q1: Münze, Vorderseite: Kaiser Augustus, 19 v. Chr., Silber **Q2: Münze, Rückseite**

- ④ Mit der Münze chatten: Informiere dich im Chat M9 weiter zur Münze Q1.

Richtige Lösungen werden im Quiz angezeigt.

- ⑤ **Überlege** gemeinsam mit einer Mitschülerin/ einem Mitschüler, weshalb gerade Augustus auf der Münze abgebildet war. (Welche Vorteile kann dies für ihn gehabt haben etc...)

Augustus = Kaiser, welcher zu diesem Zeitpunkt regierte
- Vorteil: Augustus wurde damit schnell im ganzen Reich bekannt (Vgl. heute durch Fernsehen, Internet, Zeitungen etc.)
- Aussehen von Kaiser Augustus wurde verbreitet
- Vorteil heute: leichter feststellbar, aus welcher Zeit die Münze stammt .

⑥ **Lege** einen **Steckbrief** zur Münze Q1,Q2 **an**.

MÜNZSTECKBRIEF



1 ART DER MÜNZE
Denar



2 ENTSTEHUNGSZEIT
19 v. Chr.



3 HERKUNFT
Rom, Kaiserzeit



4 HEUTIGER STANDORT
Münzkabinett der
Universität Göttingen



5 BESCHREIBUNG DER VORDERSEITE DER MÜNZE

Kopf des Kaiser
Augustus nach rechts,
links abwärts CAESAR,
rechts aufwärts
AVGVSTVS



6 BESCHREIBUNG DER RÜCKSEITE DER MÜNZE

Clipeus virtutis mit Legende; links, Aquila; rechts, Standarte; , Abkürzung SPQR= Senatus Populusque Romanus = „Der Senat und das Volk von Rom“, „Signis receptis“ = „aufgrund der Rückgabe der Feldzeichen“, Mitte= Schild des Kaiser Augustus

M10: Steckbrief zur Münze Q1⑦ **Beurteile**, ob es sinnvoll wäre, in der heutigen Zeit die Münzen in Deutschland mit dem neuen Bundespräsidenten/in zu prägen.

SuS könnten Pro-Argumente anbringen: Ehrung des Bundespräsidenten

Contra-Argumente: Der Euro ist das Zahlungsmittel innerhalb der Europäischen Union, somit mehrerer Länder. Den deutschen Bundespräsidenten auf die Münze zu prägen, wäre demnach ungerecht, man müsse demnach immer die jeweiligen Staatsoberhäupter prägen lassen. Zudem wird der dt. Bundespräsident indirekt vom Volk gewählt, somit entfällt die vorrangige Funktion der Informationsverbreitung, auch durch die Nutzung medialer Verbreitung. Außerdem wird dieser für fünf Jahre gewählt, d.h. auf bestimmte Zeit und danach müsste man die „alten“ Münzen durch neue Prägungen nach seiner Amtszeit ersetzen.

3. Die Ausdehnung des Römischen Reiches zw. 320 v.Chr. bis 405. n. Chr.

- ① **Informiere** dich in der animierten Geschichtskarte M12 über die Ausdehnung des Römischen Reiches von 320 v. Chr. bis 405 n. Chr.

- ② **Ordne** den Geschichtskarten zur Ausdehnung des Römischen Reiches die entsprechenden Jahreszahlen und Obergriffe im Quiz M13 **zu**.

Richtige Lösungen werden im Quiz angezeigt.

- ③ **Fasse** anhand der folgenden zwei Geschichtskarten (M14 und M15) die Entwicklung des Römischen Reiches **zusammen** und **interpretiere** diese kurz. Du kannst auch auf M16 digital arbeiten.

Die Geschichtskarte M14 zeigt die Stadt Rom im Jahr 320 v.Chr. Das Römische Reich befand sich zu dieser Zeit in der zweiten Epoche, der Republik, die 450 v.Chr. ausgerufen wurde. Nach und nach wurden die Regionen um Rom erobert.

Die Geschichtskarte M15 zeigt die Ausbreitung des römischen Reiches im Jahr 230 n.Chr. Durch viele Eroberungen erreichte kurz vorher das römische Imperium seine größte Ausdehnung, 117 n.Chr., mit Gebieten in Gallien, Nordafrika und Britannien unter der Führung von Kaiser Trajan. Um die Außengrenzen des römischen Reiches zu schützen, diente der Limes.

Beide Geschichtskarten verdeutlichen die geografische Ausdehnung des Römischen Reiches von einer Stadt zu einem Imperium über Meere und mehrere Regionen hinaus in alle vier Himmelsrichtungen. Das Römische Reich umfasste eine enorme Größe.

4. Rom - die ewige Stadt?

- ① **Informiere** dich im Erklärvideo M17 zum Vergleich Roms früher und heute.

Partnerarbeit digital:

- ② Wählt euch jeweils einen der drei Orte der virtuellen Erkundung aus. **Recherchiert** weitere Informationen und **formuliert** jeweils einen Lexikoneintrag. (im Dokument M18 wird dies nochmal kurz erklärt)
Stellt euch eure Lexikoneinträge anschließend gegenseitig **vor**.

Pro Lexikoneintrag: Herkunft des Namens, W-Fragen, früher*heute*

Kolosseum: *größtes Amphitheater der Welt* größtes, im antiken Rom erbautes Amphitheater; aus dem ital. Colosseo; zw. 72 und 80 n. Chr. errichtet, früher: Austragungsort brutaler Veranstaltungen, welche zur Belustigung der Bewohner des römischen Reiches dienten; heute: Wahrzeichen Roms, Darstellung der Baukunst der Römer der Antike

Forum Romanum: Name „Römischer Marktplatz“, ältestes römisches Forum, war Mittelpunkt des politischen, wirtschaftlichen, kulturellen und religiösen Lebens, liegt zwischen den 3 Stadthügeln Kapitol, Palatin, Esquilin; laut antiker Überlieferung wurde es von etruskischem König Lucius Tarquinius Priscus zu Beginn des 6. Jahrhunderts v. Chr. in die Stadt einbezogen; heute: eine der wichtigsten Ausgrabungsstätten des antiken Roms

Trevi Brunnen: ital. Fontana di Trevi; erbaut im Spätbarock von 1732 bis 1762 nach Entwurf von Nicola Salvi erbaut; eine der wichtigsten Sehenswürdigkeiten Roms; rund 26 m Höhe und 50 m Breite der größte Brunnen Roms und einer der bekanntesten Brunnen der Welt

- ③ **Beurteile**, weshalb Rom auch die „Ewige Stadt“ genannt wird und überlege dir eine weitere Bezeichnung.

- Ehrenname der Stadt
- als Eigenschaft der Stadt Rom bezüglich der umfassenden Bedeutung der Geschichte Roms (bis heute 3 Jahrtausende)
- Dichter Tibull: Umschreibung für Pracht und Größe der Stadt, keine räumlichen und zeitlichen Grenzen, Vielzahl an historischen Denkmählern/ Geschichtskultur