

## Markt, Zunft und Geld - Handel im Mittelalter

Der Markt bildete das Zentrum der mittelalterlichen Stadt. Hier wurden die Produkte der Bauern und Handwerker angeboten. Verschiedene Waren lockten Käufer und Verkäufer auf die Marktplätze, wo dann gefeilscht und verhandelt wurde. Die folgenden Aufgaben werden dir dabei helfen, einen Einblick in das mittelalterliche Markttreiben zu bekommen.

- ① Nenne anhand der Fotos **M1** und **M2** drei dir schon bekannte Fakten über den Markt im Mittelalter und drei Fragen, die du gern beantworten haben möchtest.

**Mögliche thematische Schwerpunkte:**

Berufe, Warenangebote, Orte des Marktes, Zahlungsmittel



**M1 Stand eines Topfmachers auf einem heutigen Mittelaltermarkt, CC0**  
Link: <https://t1p.de/0qpmj>



**M2 Stand eines Korbmachers auf einem heutigen Mittelaltermarkt, CC0**  
Link: <https://t1p.de/kj70z>

**interessante Fakten:**

---

---

---

---

---

---

---

---

**offene Fragen:**

---

---

---

---

---

---

---

---

## Die Messestadt Leipzig

Spätestens im 12. Jahrhundert wurde Leipzig zu einem der wichtigsten Handelsplätze Europas. Die Stadt lag an der Kreuzung der Handelsstraßen **Via Regia**, die von Paris bis ins russische Nowgorod führte, und der **Via Imperii**, die Bergen und Rom verband. Diese günstige Lage sorgte für einen florierenden Handel auf den Märkten Leipzigs.

- 1 Recherchiere zunächst den Verlauf der Handelsstraßen Via Regia und Via Imperii. Zeichne diese anschließend in der Karte **M3** ein.



**M3 Verlauf der Handelsstraßen Via Regia und Via Imperii**, CC PD

Link: <https://t1p.de/pls5>



**Hilfestellung**

[https://de.wikipedia.org/wiki/Via\\_Imperii](https://de.wikipedia.org/wiki/Via_Imperii)

- 2 Informiere dich im Video **M4** über Leipzig als Marktstandort im Mittelalter. Ergänze anschließend den Lückentext.



**M4 Video über Leipzig als Marktstandort im Mittelalter**,

Link: <https://t1p.de/59vd>

**Lückentext - Leipzig als Handelsmetropole:**

Mittelalterliche Städte entstanden meist an strategisch günstigen Orten, z.B. in der Nähe von Burgen, Brücken oder \_\_\_\_\_.

Auch Leipzig lag im Mittelalter an der Kreuzung zweier bedeutender Handelswege, der Via Regia und der \_\_\_\_\_. Diese günstige Lage sorgte für einen florierenden Handel auf den verschiedenen Märkten der Stadt. Vor allem der \_\_\_\_\_ blühte und brachte exotische Waren aus fernen Ländern nach Leipzig. 1457 verlieh der römisch-deutsche Kaiser Maximilian I. Leipzig das sogenannte \_\_\_\_\_. Hierdurch erhielt sie das Vorrecht, jährliche Messen auszurichten. Anderen Städten, wie z.B. Erfurt oder Magdeburg, war dies somit untersagt. Weiterhin bekam Leipzig das sogenannte \_\_\_\_\_ zugesprochen. Dieses verpflichtete durchreisende Händler ihre Waren vor der Stadt abzuladen, also zu „stapeln“, und für einige Tage zum Verkauf anzubieten. Leipzig wurde dadurch endgültig zu einer der wichtigsten europäischen \_\_\_\_\_.

**Lösungswörter:** *Straßenkreuzungen, Via Imperii, Fernhandel, Messeprivileg, Stapelrecht, Handelsmetropole.*

- ③ Markiere die im Video **M4** genannten historischen Orte in der Karte **M5**.

**Orte:** Grimmaisches Tor, Großer Markt, Hallisches Tor, Rathaus, Ranstädter Tor



#### Digitale Karte

Klicke auf den Link, um in die Karte hineinzuzoomen zu können. Dies hilft dir beim Eintragen.

Link: <https://t1p.de/j5zd>



#### M5 historischer Kupferstich der Stadt Leipzig im Mittelalter um 1740

CC BY-SA 4.0 SLUB, Deutsche Fotothek

<https://t1p.de/j5zd>

- ④ *Begib dich nun selbst auf Spurensuche:* Suche drei der oben genannten Orte in Leipzig auf. Fotografiere die Orte.
- ⑤ Beurteile, ob die Stadt Leipzig heute noch immer als **Messestadt** bezeichnen werden kann. Recherchiere dazu auf mehreren Websites im Internet.



#### Hilfestellung

- <http://www.leipziger-messe.de/unternehmen/geschichte/chronik/Zeittafel>
- [https://de.wikipedia.org/wiki/Leipziger\\_Messe](https://de.wikipedia.org/wiki/Leipziger_Messe)

## Küfer, Kürschner und Schröter - noch nie gehört?

Typische Berufe im Mittelalter waren der Kürschner, Küfer oder Buchbinder. Die Handwerker gehörten zu einer freien, angesehenen Bevölkerungsschicht, die sich einen recht hohen Lebensstandard leisten konnte.

- ① Informiere dich in **M6** über die Berufsbilder der in **T1** aufgeführten Berufe und ergänze die Tabelle. Äußere anschließend Vermutungen, warum viele dieser Berufe heute nicht mehr existieren.
- ② Recherchiere zu einem Beruf, der dich interessiert und ergänze mit den gesammelten Informationen zu diesem Beruf die letzte Zeile der Tabelle **T1**.



**M6 Berufsbilder**

Link: <https://t1p.de/0zap>

Berufe	Berufsbild	Vermutung, warum dieser Beruf nicht mehr existiert
<b>Küfer</b>	Handwerk, welches Gefäße und Behälter aus Holz herstellt.	Es wird heute von Maschinen übernommen und die Plastik ersetzt heute das Holz.
<b>Kürschner</b>		
<b>Schröter</b>		
<b>Posamentierer</b>		
<b>Windmüller</b>		

**T1** Typische Berufe im Mittelalter

## Die Zünfte im Mittelalter

Zünfte waren im Mittelalter Zusammenschlüsse von Personen, welche den gleichen Beruf ausübten. Diese gab es zur gegenseitigen Unterstützung. Jede Zunft hatte ihr eigenes Wappen, damit jeder erkennen konnte, um welchen Beruf es sich handelt.


- ① Recherchiere mit Hilfe der Website **M7** die zu den Zunftzeichen (M8 - M10 ) gehörenden Berufe.



M7 Zunftzeichen

Link: <https://t1p.de/tgf9>


Bild nicht gefunden oder fehlerhaft



M9 Zunftwappen

CC PD

Link: <https://t1p.de/zugk>




M10 Zunftwappen

CC PD

Link: <https://t1p.de/9yeg>

**Zusatzaufgabe:** Erstelle nun dein **eigenes Zunftzeichen** für deinen eigenen Traumberuf oder den Beruf deiner Eltern.



## Im Geldbeutel des Mittelalters

Pfennig, Schilling, Denare, Gulden oder Groschen - So hießen die Währungen im Mittelalter, die sich von Region zu Region unterschieden. Eine einheitliche Währung, wie wir sie heute kennen, gab es damals noch nicht.

- ① Informiere dich im Erklärvideo M11 über das **virtuelle Münzkabinett Kenom** und dessen Funktionsweise.



M11 Erklärvideo

Link: <https://t1p.de/8zrn>


- ② Recherchiere nun selbstständig die Münze **Sachsenpfennig um 1040**. Notiere dir stichpunktartig die Merkmale der Münze in der Tabelle T2.

Merkmale	Sachsenpfennig
<b>Objektbezeichnung</b>	
<b>Datierung</b>	
<b>Material</b>	
<b>Größe</b>	
<b>Beschreibung</b>	


T2 Merkmale Sachsenpfennig 1040

- ③ Erstelle eine Zeichnung des Sachsenpfennigs.

**Vorderseite der Münze:**



**Rückseite der Münze:**



- ④ Informiere dich über die heutigen Preise der Produkte in **T3**. Stelle anschließend Vermutungen darüber an, was die jeweiligen Produkte im Mittelalter gekostet haben könnten und trage beides in die Tabelle T3 ein.

Produkt	Preis heute	Schätzpreis im Mittelalter	Lösung
1 Pfd. Butter			
1 Pfd. Brot			
1 Maß Bier			
1 Pfd. Rindfleisch			

**T3** Preise im Mittelalter

- ⑤ Überprüfe deine Schätzungen zu Preisen im Mittelalter mit Hilfe von **M12** und ergänze die richtigen Antworten in der letzten Spalte von **T3**.



**M12 Kaufkraft des Geldes**

Link: <https://t1p.de/0576h>



