


- ① Schau dir folgendes Youtube Video an und beantworte die Fragen im Video. Danach löse die weiteren Aufgaben auf dem AB.
<https://youtu.be/w0yj259UrAs>



- ② Schreibe die richtigen Silben unter die Noten. Beachte dabei die Handzeichen. Die ersten 5 Töne einer Molltonleiter heißen:




- ③ Notiere die **natürliche** Molltonleiter wie sie im Video zu sehen ist (Töne, Silben, Halbtonschritte)



- ④ Notiere die **harmonische** Molltonleiter wie sie im Video zu sehen ist (Töne, Silben, Halbtonschritte)

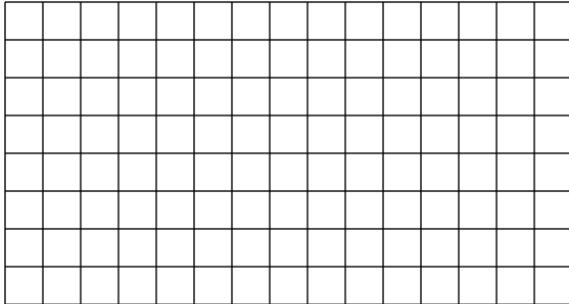


- ⑤ Notiere die **melodische** Molltonleiter wie sie im Video zu sehen ist (Töne, Silben, Halbtonschritte)



- ⑥ Zeichne die Handzeichen für die Silben
Fi und Si.

Fi



Si

