


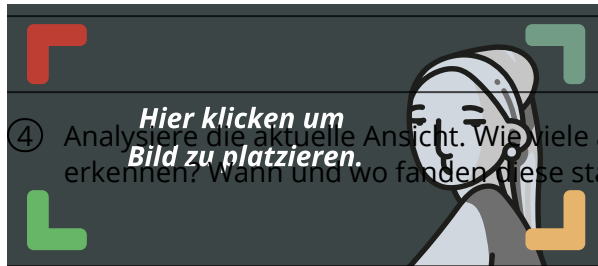
## Naturgefahren in Österreich - Kartenarbeit

- ① Öffne die Website <https://www.hora.gv.at/> und versuche folgende Aufgaben zu lösen.
- ② Verwende den Zoom, um einzelne Orte auf der Karte zu vergrößern oder verkleinern. Versuche den Bereich zwischen Leoben und Neunkirchen anzuzeigen. Wie groß wird der Maßstab angezeigt?



- ③ Gib hier deinen Wohnort an.
- a) Untersuche deinen Wohnort hinsichtlich der Erdbebengefahr (braune Schaltfläche).
- b) Aktiviere dazu die Legende. 
- c) In welcher Zone liegt dein Wohnort?

Zoom




- ④ Analysiere die aktuelle Ansicht. Wie viele aktuelle Erdbeben kannst du in der Steiermark erkennen? Wann und wo fanden diese statt?

Bildunterschrift

- ⑤ Welche die Ansicht. Rufe über die türkise Schaltfläche die Daten über Windspitzen in deinem Wohnort auf.
- a) Welche Windspitzen werden dort im Sommer erreicht?
- b) Welche Windspitzen werden dort im Winter erreicht?

- ⑥ Welche erneut die Ansicht. Rufe über die blaue Schaltfläche die Gefahrenkarte - Überflutungsflächen auf.
- a) Welche Wahrscheinlichkeit für Überflutungen gibt es in deiner Straße?
- b) In welchem Maßstab kannst du diese Wahrscheinlichkeit ablesen?

 Welche Naturgefahr schätzt du für deinen Wohnort als gefährlichste ein? Bespricht deine Entscheidung mit deinem Sitznachbar/deiner Sitznachbarin.

### Geographie