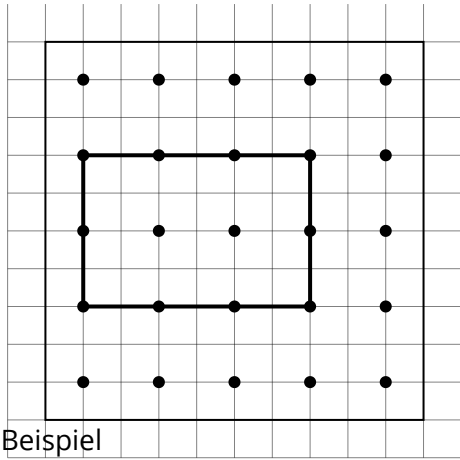


- ① Hole Dir ein Geobrett und einen Gummi und erstelle wie im Beispiel verschiedene Figuren, zeichne sie hier auf und bestimme ihren Umfang und ihre Fläche.



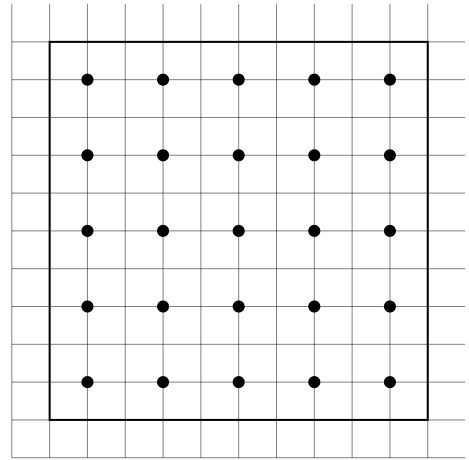
Beispiel

$U = 3 + 2 + 3 + 2 = 10 \text{ EL}$

$A = 3 \cdot 2 = 6 \text{ EQ}$

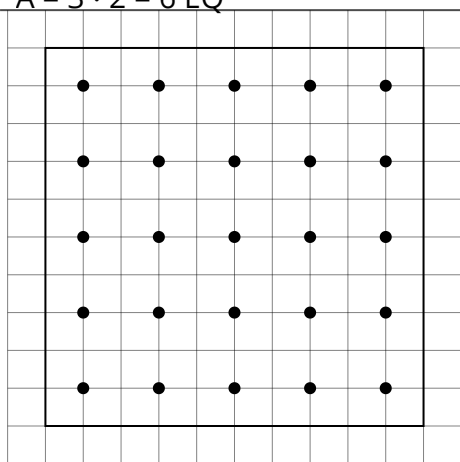


[Flächeninhalt bestimmen](#)



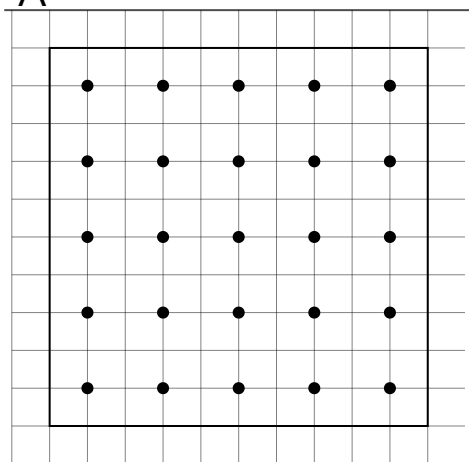
$U =$

$A =$



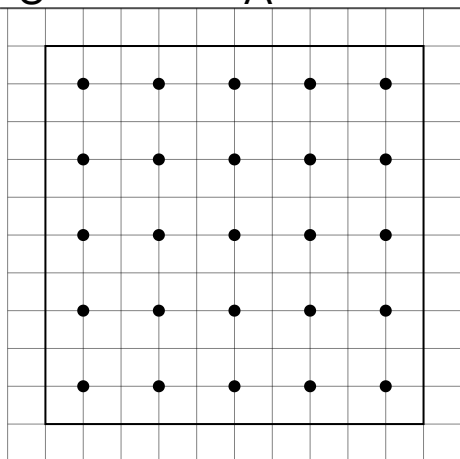
$U =$

$A =$



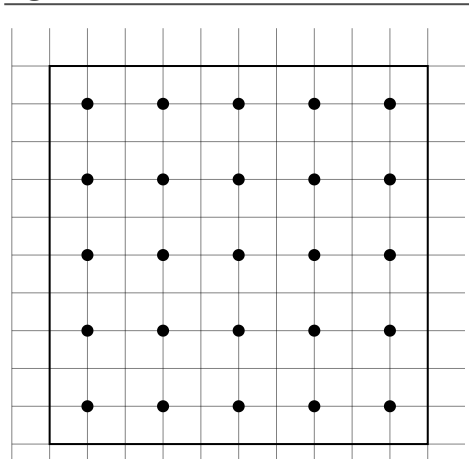
$U =$

$A =$



$U =$

$A =$



$U =$

$A =$