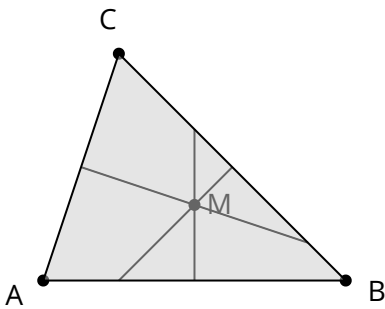
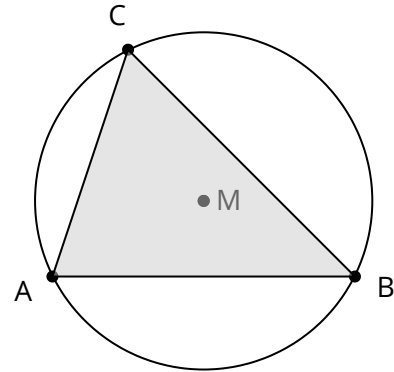


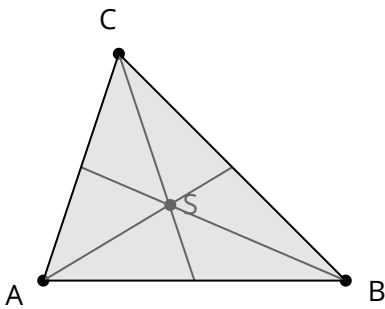
**Höhen**  $h_a, h_b, h_c$  und Höhenschnittpunkt H



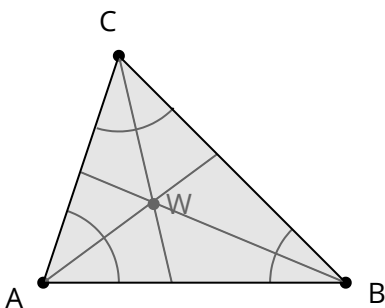
**Mittelsenkrechten**  $m_a, m_b, m_c$  und Schnittpunkt M



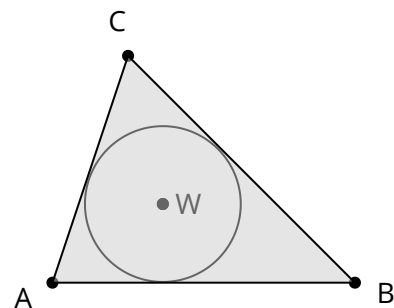
**Umkreis** mit Mittelpunkt M



**Seitenhalbierende**  $s_a, s_b, s_c$  und Schwerpunkt S



**Winkelhalbierende**  $w_a, w_b, w_c$  und Schnittpunkt W



**Inkreis** mit Mittelpunkt W