


④  Berechne schriftlich!

 / 6

a) $394 \cdot 45 =$ _____

b) $350 \cdot 42 =$ _____



⑤ Berechne!

 / 3

a) $35 : 7 =$ ____


b) $24 : 8 =$ ____

⑥  Berechne schriftlich!

 / 4

a) $236 : 4 =$ ____

b) $384 : 6 =$ ____




⑦ Berechne!

/ 3

a) $712 \cdot 100 = \underline{\hspace{2cm}}$

b) $34 \cdot 10 = \underline{\hspace{2cm}}$

c) $123 \cdot 10\,000 = \underline{\hspace{2cm}}$



⑧ Berechne! Beachte die Rechenregeln.

/ 3

a) $3 \cdot 2 + 3 = \underline{\hspace{2cm}} = \underline{\hspace{2cm}}$

b) $9 + 3 \cdot 8 = \underline{\hspace{2cm}} = \underline{\hspace{2cm}}$

c) $(4 + 3) \cdot 5 = \underline{\hspace{2cm}} = \underline{\hspace{2cm}}$

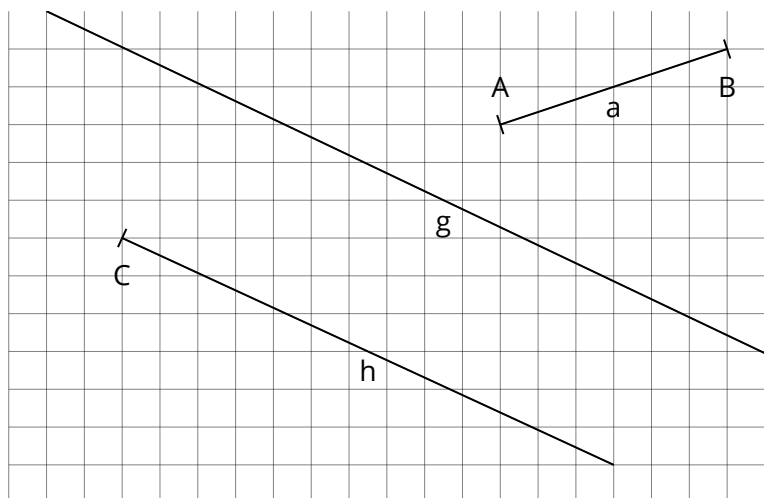
⑨ Ordne zu!

/ 3

Strecke ● ○ h

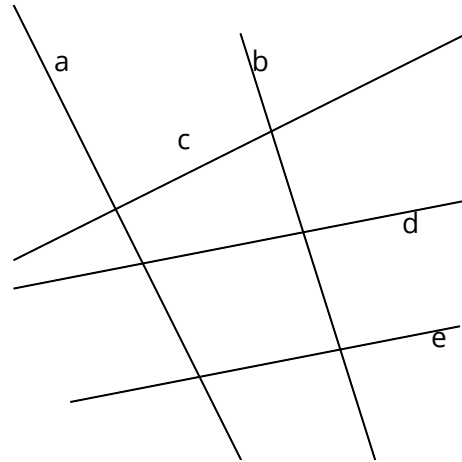
Strahl ● ○ a

Gerade ● ○ g



⑩ Trage die Buchstaben der betroffenenen Geraden ein. / 2

- a) Diese Geraden sind senkrecht zueinander: _____
- b) Diese Geraden sind parallel zueinander: _____



⑪ a) Trage folgende Punkte im Koordinatensystem ein: / 3

A (2 / 7)

B (5 / 4)

b) Zeichne **eine** Gerade durch die Punkte A **und** B.

c) Zeichne die Senkrechte durch B zu der Geraden durch A und B.

