



Rechnen mit Euro

① Male die Beträge mit möglichst wenig Münzen und Scheinen




p/p

Amelie hat 8€




p/p

Anton hat 17€



p/p

Ben hat 11,50€



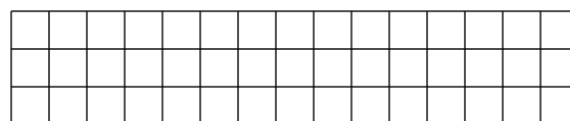
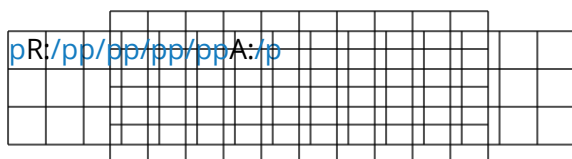
p/p

Barbara hat 4€

② Wie viel Geld haben die Kinder? Rechne aus und schreibe einen Antwortsatz.

Franz hat 5€ mehr als Josef.
Josef hat 11€

Simon und Paul haben 6€. Mona hat 13€



Paula hat 8€ weniger als Thomas. Thomas hat 7€

Tim hat 12€. Das sind 8€ weniger als Lea

