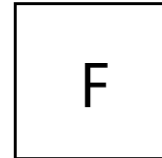
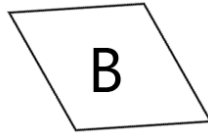
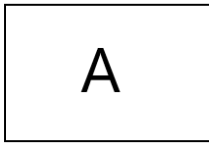


- ① Hier sind verschiedene Vierecke abgebildet. Welche dieser Vierecke sind Parallelogramme? Begründe deine Aussage.



A ist ein / ~~kein~~ Parallelogramm, weil die gegenüberliegenden Seiten gleich lang und parallel sind

B ist ein / ~~kein~~ Parallelogramm, weil die gegenüberliegenden Seiten gleich lang und parallel sind

C ist ein / ~~kein~~ Parallelogramm, weil keine Seite gleich lang ist bzw. weil keine Seite parallel zu einer anderen ist

D ist ein / ~~kein~~ Parallelogramm, weil die gegenüberliegenden Seiten gleich lang und parallel sind

E ist ein / ~~kein~~ Parallelogramm, weil keine Seite gleich lang ist bzw. weil nur ein paar Seiten parallel zu einander ist

F ist ein / ~~kein~~ Parallelogramm, weil die gegenüberliegenden Seiten gleich lang und parallel sind