

1. Funktionen erkennen



Hilfe

Der QR-Code führt dich zu einem Lernvideo, falls du dein Wissen auffrischen willst.



① Bestimme, ob die folgenden Zuordnungen Funktionen sind.

a) Jeder Farbe wird ihr Anfangsbuchstabe zugeordnet. Funktion
 keine Funktion

b) Jedem Kind werden seine Haustiere zugeordnet. Funktion
 keine Funktion

c)

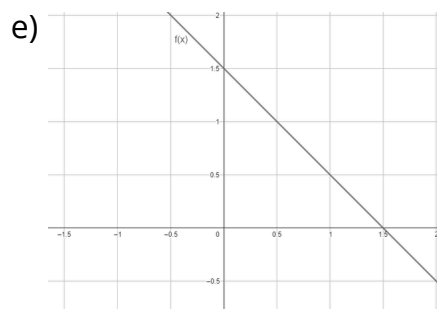
x	1	2	3	4
f(x)	5	6	-5	-6

 Funktion
 keine Funktion

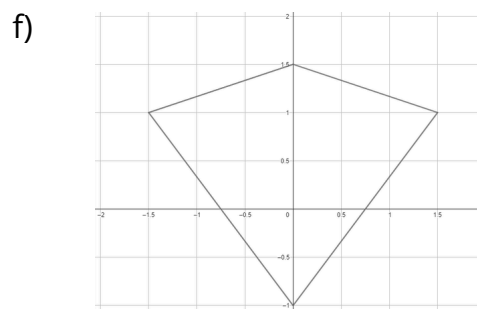
d)

x	1	2	3	4
y	1; 2	3; 4	5; 6	7; 8

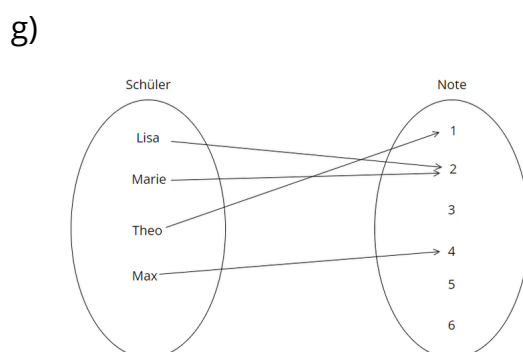
 Funktion
 keine Funktion



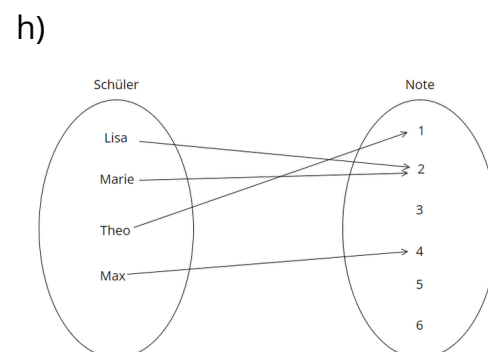
Funktion
 keine Funktion



Funktion
 keine Funktion



Funktion
 keine Funktion



Funktion
 keine Funktion