

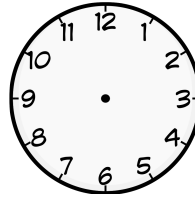
La hora: adivina adivinanza

① Löse das Uhrzeiten-Rätsel!




Es la una y media.

1. Media hora más que el reloj original.




Son las ...

2. Tres horas más que el reloj 1.



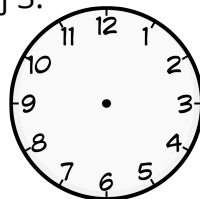
Son las ...

3. Veinte minutos más que el reloj 2.



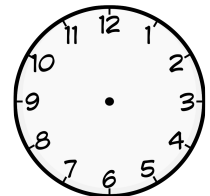
Son las ...

4. Dos horas menos que el reloj 3.




Son las ...

5. Media hora menos que el reloj 4.



Son las ...

6. Tres horas y 10 minutos más que el reloj 5.



SOLUCIÓN:
Son las ...

Achtung! Rechenaufgabe!

más = mehr
menos = weniger