

☺ Zeichne in das Koordinatensystem folgende Punkte ein.

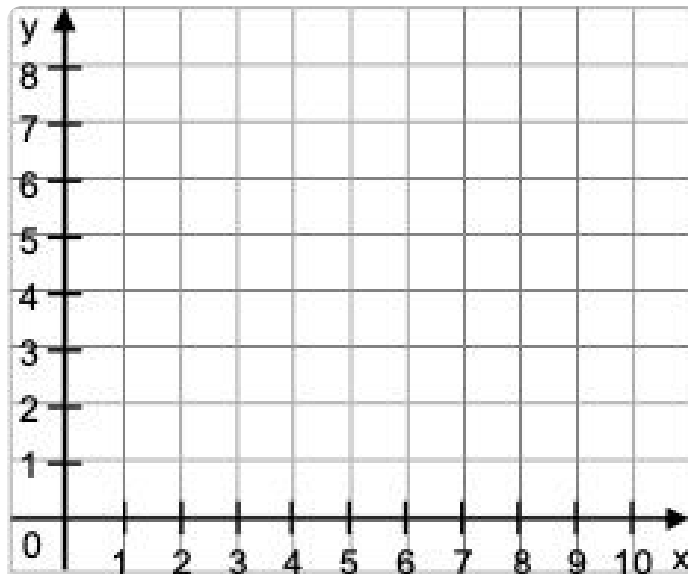
A ( 1 | 3 )

C ( 5 | 3 )

B ( 2 | 6 )

D ( 7 | 9 )

pK  
3/p



☺ Welche Punkte sind in dem Koordinatensystem eingezeichnet?  
Ergänze die Koordinaten:

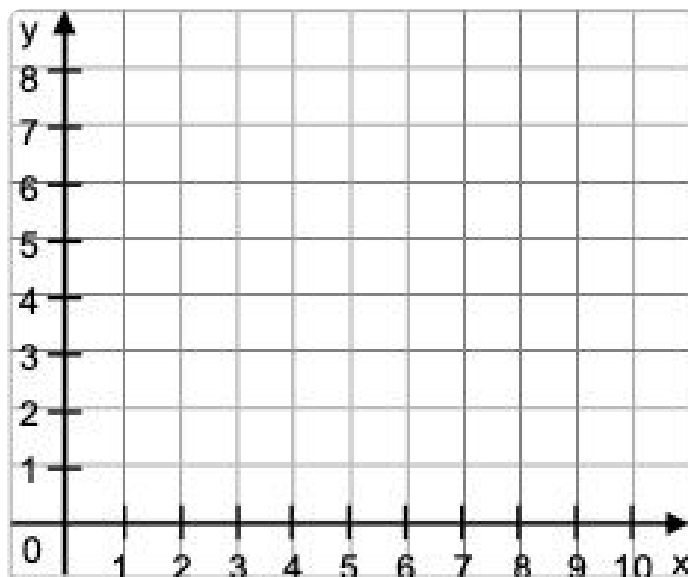
A (  |  )

C (  |  )

B (  |  )

D (  |  )

pK  
6/p




- Zeichne ein Koordinatensystem mit einer x-Achse von 5cm und einer y-Achse von 5cm. Trage in dieses Koordinatensystem folgende Punkte ein.

pK  
9/p

A ( 2 | 1 )  
B ( 1 | 4 )

C ( 3 | 4 )  
D ( 2 | 2 )



- Zeichne in das Koordinatensystem folgende Punkte ein:

A ( 0 | 0 )  
B ( 2 | 2 )  
C ( 4 | 4 )

pK 12/p

- Kannst du die Punkte miteinander verbinden?
- Wie müsste der nächste Punkt heißen?

D (  |  )

