



# Klimazonen in Europa

- ①  Lies dir im Buch S. 22+23 aufmerksam und leise durch.
- ②  Fülle die Lücken auf dem Arbeitsblatt aus.

**Merke:** Klimazonen sind , in denen ungefähr die gleichen  herrschen und in denen auch ungefähr gleich viel  fällt.

In Europa findet man  verschiedene Klimazonen.

## Die subpolare Klimazone

Sie befindet sich im  Europas. Die Winter sind  und kalt, die  kurz und kühl. Es fällt nur  Niederschlag. In weiten Gebieten ist der Boden immer .



## Die gemäßigte Zone

Sie ist stark vom Wechsel der  geprägt. Die Winter sind oft kalt und es fällt . Im Sommer ist es warm bis . Es fällt ausreichend Niederschlag.

Die Zone ist besonders gut für die  geeignet.

## Die subtropische Klimazone

Im  Europas ist Schnee selten. Die Winter sind kühl und regnerisch. Im Sommer gibt es oft lange und heiße . Die Temperatur liegt im Jahresdurchschnitt bei  20 °C.

- ③  Vergleiche deine Lösung mit deinem Banknachbarn.
- ④  Du bist mit allem fertig? Dann erledige diese Aufgabe auf deinem Tablet:

