



# Klimazonen in Europa

- ①  Lies dir im Buch S. 22+23 aufmerksam und leise durch.
- ②  Fülle die Lücken auf dem Arbeitsblatt aus.

**Merke:** Klimazonen sind \_\_\_\_\_, in denen ungefähr die gleichen \_\_\_\_\_ herrschen und in denen auch ungefähr gleich viel \_\_\_\_\_ fällt.

In Europa findet man \_\_\_\_\_ verschiedene Klimazonen.

## Die subpolare Klimazone

Sie befindet sich im \_\_\_\_\_ Europas. Die Winter sind \_\_\_\_\_ und kalt, die \_\_\_\_\_ kurz und kühl. Es fällt nur \_\_\_\_\_ Niederschlag. In weiten Gebieten ist der Boden immer \_\_\_\_\_.



## Die gemäßigte Zone

Sie ist stark vom Wechsel der \_\_\_\_\_ geprägt. Die Winter sind oft kalt und es fällt \_\_\_\_\_. Im Sommer ist es warm bis \_\_\_\_\_. Es fällt ausreichend Niederschlag.

Die Zone ist besonders gut für die \_\_\_\_\_ geeignet.

## Die subtropische Klimazone

Im \_\_\_\_\_ Europas ist Schnee selten. Die Winter sind kühl und regnerisch. Im Sommer gibt es oft lange und heiße \_\_\_\_\_. Die Temperatur liegt im Jahresdurchschnitt bei \_\_\_\_\_ 20 °C.

- ③  Vergleiche deine Lösung mit deinem Banknachbarn.
- ④  Du bist mit allem fertig? Dann erledige diese Aufgabe auf deinem Tablet:

