



Klimazonen in Europa

- ①  Lies dir im Buch S. 22+23 aufmerksam und leise durch.
- ②  Fülle die Lücken auf dem Arbeitsblatt aus.

Merke: Klimazonen sind _____, in denen ungefähr die gleichen _____ herrschen und in denen auch ungefähr gleich viel _____ fällt.

In Europa findet man _____ verschiedene Klimazonen.

Die subpolare Klimazone

Sie befindet sich im _____ Europas. Die Winter sind _____ und kalt, die _____ kurz und kühl. Es fällt nur _____ Niederschlag. In weiten Gebieten ist der Boden immer _____.



Die gemäßigte Zone

Sie ist stark vom Wechsel der _____ geprägt. Die Winter sind oft kalt und es fällt _____. Im Sommer ist es warm bis _____. Es fällt ausreichend Niederschlag.

Die Zone ist besonders gut für die _____ geeignet.

Die subtropische Klimazone

Im _____ Europas ist Schnee selten. Die Winter sind kühl und regnerisch. Im Sommer gibt es oft lange und heiße _____. Die Temperatur liegt im Jahresdurchschnitt bei _____ 20 °C.

- ③  Vergleiche deine Lösung mit deinem Banknachbarn.
- ④  Du bist mit allem fertig? Dann erledige diese Aufgabe auf deinem Tablet:

