

## Klassenarbeit Nr. 3

① Berechne den Wert des Terms!

/ 3

x	3	5	12
$x + 4$	<input type="text"/>	<input type="text"/>	<input type="text"/>
$2x + 2$	<input type="text"/>	<input type="text"/>	<input type="text"/>
$7x$	<input type="text"/>	<input type="text"/>	<input type="text"/>

② Fasse zusammen!

/ 6

a)  $-3a + 10a =$

d)  $17x + 13x =$

b)  $28y - 14y =$

e)  $29y + 8y =$

c)  $27x + 15x =$

f)  $-9a + 14a =$

③ Fasse zusammen!

/ 3

a)  $12s + 16t - 18s + 29t =$

b)  $29a + 18b + 13a + 16b =$

c)  $8m + 6n - 27m + 17n =$

④ Vereinfache die Terme!

/ 6

a)  $13 \cdot 8x =$

c)  $7x \cdot 4y =$

e)  $12x \cdot 3y =$

b)  $3 \cdot 4x \cdot 4y =$

d)  $16 : 4x =$

f)  $15 \cdot 9x =$

⑤ Löse die Klammer auf und fasse zusammen!

/ 3

a)  $20 + (x - 17) =$

b)  $19 - (x - 5) =$

c)  $13x - (3 - 3x) =$

=

=

=

⑥ Löse auch diese Klammern auf und vereinfache!

/ 3

a)  $7(9a - 9b) =$

b)  $9(6x - 3y) =$

c)

d)

⑦ Ergänze die Lücken und löse die Gleichung!


/ 4

a)  $5x = 30$  |   
 $x =$

c)  $3x = 12$  |   
 $x =$

b)  $6x = 18$  |   
 $x =$

d)  $8x = 32$  |   
 $x =$


⑧  Übertrag die Gleichungen auf ein kariertes Papier. Löse die Gleichungen! Gib die Umformungen hinter dem Kommandostrich an!

/ 3

a)  $6x + 11 = 35$   
 $x =$

b)  $7x - 5 = 44$   
 $x =$

c)  $-3x - 6 = 3 - 6$   
 $x =$

⑨  Übertrag die Gleichungen auf ein kariertes Papier. Löse die Gleichungen! Gib die Umformungen hinter dem Kommandostrich an! **Achte auf die Klammer!**



/ 2

a)  $7x - (-1x - 8) = 44$   
 $x =$

b)  $14x - (-4x - 9) = 99$   
 $x =$

⑩ Der Umfang des gleichschenkligen Dreiecks beträgt 15 cm. Berechne die Länge der Schenkel.

/ 1



Unterschrift

Note

Punkte: / 34

Angaben zu den Urhebern und Lizenzbedingungen der einzelnen Bestandteile dieses Dokuments finden Sie unter

<https://www.tutory.de/entdecken/dokument/klassenarbeit-nr-3>