


1. Klassenarbeit in Lernfeld 2

 Viel Erfolg!

1 Kreise die Werkzeuge ein, die du deinem Kollegen mitbringen sollst. / 3



2 Bennene die Werkzeuge und gebe jeweils ein Anwendungsbeispiel. / 8

 **Benennung**

 **Verwendung**







Benennung



Verwendung



3 Ordne den Bildern die passende Benennung zu. Beschreibe daneben die Verwendung des Werkzeuges. / 8





Eckenkelle, Glättkelle, Venezianerkelle, Japanspachtel, Tapezierspachtel, Flächenspachtel, Stoßspachtel



Benennung



Verwendung




4 Beschreibe, wie ein Federspachtel aussieht und wie der Aufbau das Spachtelergebnis beeinflusst. / 2

5 Beschreibe für was das Gleitfußmesser verwendet wird. / 1


6 Beschreibe für was die Tapezierbürste verwendet wird. / 1

7 Nenne und beschreibe drei weitere Tapezierwerkzeuge und ihre Anwendung. / 6



8 Wie wird eine Langhalsschleifmaschine umgangssprachlich genannt? / 1

- Elefantenrüssel
- Mäuschen
- Giraffe
- Strauß

 durchmischen, Mörtel, Klumpenbildung, Putz, Lasuren, Baustelle, Dispersionsbeschichtung, 2x Rührwerk, Beton, Kuchenteig, professionelles Rührgerät, Baustelle, Bohrmaschine, Latexfarben, Rührwerke, Küchenmixer

9 Fülle die Lücken mit passenden Worten aus! / 8

Ein:e Maler:in muss eine Vielzahl an unterschiedlicher Materialien auf der

verarbeiten. Dies erfordert ein Mischwerkzeug, wie zum Beispiel ein

. Damit lassen sich flüssige Materialien, wie

, und

aufrühren oder pulverförmige Stoffe wie , und

anmischen. Das Rühren alle Bestandteile miteinander und

verhindert .

Je nach Art des zu verarbeitenden Materials und der Menge gibt es unterschiedlich

geformte . Diese lassen sich auf eine oder

ein aufsetzen. Ein

funktioniert ähnlich wie ein – nur mit mehr

Leistung. Anstelle von werden Baustellenmaterialien angerührt.

10 Welches ist dein Lieblingswerkzeug? / 2
Erläutere warum und für was du es verwendest.

11 Für welche Arbeiten verwendest du einen Staubsauger? / 2

- Säubern / Aufräumen
- Schleifen
- Sägen
- Bohren

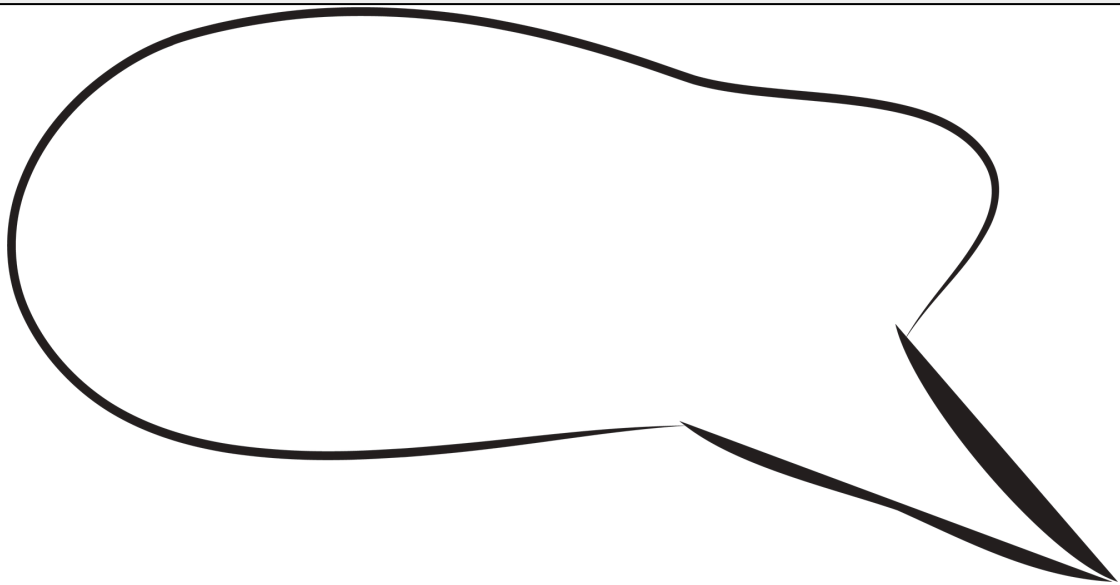
 Du hast die Hälfte geschafft!

12 Benenne zwischen welchen Besatzmaterialien man bei Streichwerkzeugen unterscheidet.

/ 2

13 Erkläre dem Praktikanten in deiner Firma, was mit einer *Fahne* in Bezug auf Streichwerkzeuge gemeint ist.

/ 4



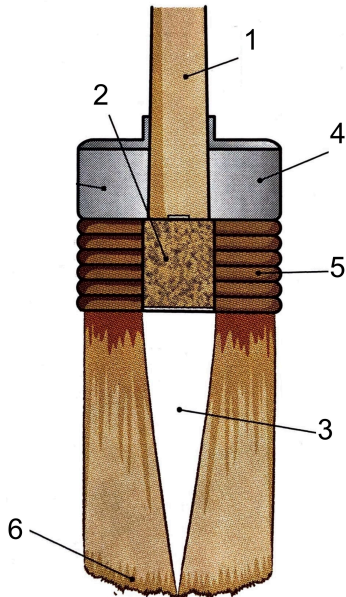
14 Nenne eine Naturborste.
Beschreibe das Aussehen und nenne mindestens eine Eigenschaft.

/ 3

15 Nenne ein Naturhaar.
Beschreibe das Aussehen und nenne mindestens eine Eigenschaft.

/ 3

16 Ordne dem Bild die entsprechenden Bezeichnungen zu. Beschreibe die Funktion der einzelnen Teile. / 12




17 Walzenform - Fülle die Lücken mit den passenden Worten! / 4

Durch eine [] oder [] Form einer Walze, wird der [] an den Seiten verringert. Dadurch lassen sich sichtbare Walzenansätze verhindern. Somit kann [] beschichtet werden.

18 Toni soll eine Wand aus Raufasertapete farbig streichen. Gib eine Empfehlung, ob eine gepolsterte oder eine ungepolsterte Rolle verwendet werden sollte. Erkläre, warum! / 2

19 Nenne eine Naturfaser, aus der Walzen bestehen können. / 3
Beschreibe das Aussehen und nenne mindestens eine Eigenschaft und ein Anwendungsbeispiel.



20 Nenne eine synthetische Faser, aus der Walzen bestehen können. / 3
Beschreibe das Aussehen und nenne mindestens eine Eigenschaft und ein Anwendungsbeispiel.



- ②1) Auf deinem Spickzettel sind Wörter versteckt, die dir helfen sollen, dich an die Reinigungs- und Pflegehinweise für Rollwerkzeuge zu erinnern. / 3
Finde die Wörter und formuliere mit ihrer Hilfe drei Tipps!

B S T E C K W A N D Ü Q K U T I K O C S
 F H T A B S A T Z B E C K E N C B J K C
 A Ö A Ö V Ü G Ö Ö L Ä I T Ü N B G Q V H
 S K Z L W V W D Y Z N G I Ö V M S M N L
 E K G P G A U S W A S C H E N D S Z K E
 R N S H O Y A A K P P X C W V C U A Ä U
 K V J W Ö K S Ü N Z F O L I E I C Ä F D
 K Y L Y L U G S T M F D C Q F C Y Q E E
 Q L U F T D I C H T F J I E A D G K M R
 K G A Ä I A D J L Q O S G O S P G L K N
 S Ä Q O Ö Ö V N L O Y Z R T E I X A X C
 Ä B Y O J Y A P B M X R A G R U H R X Q



Punkte:

/ 81

Note

Notenspiegel

| Note | 1 | 2 | 3 | 4 | 5 | 6 |
|--------|-----|-----|-----|-----|-----|---|
| Punkte | 74½ | 65½ | 54½ | 40½ | 24½ | 0 |