
Kurzkontrolle rationale Zahlen

① Trage die angegebenen rationalen Zahlen an der Zahlengerade ab.


a) -1,3; 0,3; 2,7; -2,4;

6 Pkt.


b) -210; 80; -150; 190

c) -460; 280; 40; -80


a)



b)



c)



② Vergleiche die rationalen Zahlen. Setze das richtige Zeichen. ($>$, $<$, $=$)

4,5

2,3;

-1

2;

4 Pkt.

-3

-12;

-1,1

-1,2;

③ Ordne die Werte nach der Größe. Beginne mit dem kleinsten Wert.

a) 1,23€; 125€; -75,5€; 0,03€; -12€; -1,23€

4 Pkt.

b) 5m; 0,5m; -0,05m; 123m; -10m; -9,98m

