
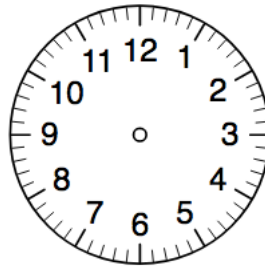


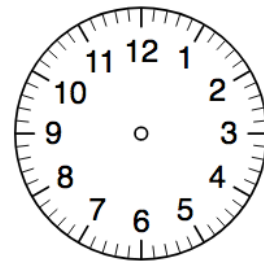
① Trage die richtige Uhrzeit ein!



_____ Uhr



20:00 Uhr



17:00 Uhr

② Welche Aussage ist richtig?
10 Meter sind...

- 1000 dm
 1000 cm
 1000 mm

③ Ordne nach der Größe. Beginne mit der
kleinsten. (1-5)

- 3 km
 60 mm
 5000 m
 21 dm
 5 cm

④ Ordne die Gewichtsangaben. Beginne
mit der leichtesten.

2 kg 9 g 9000 g 75 kg 400 g

- 1)
2)
3)
4)
5)

⑤ Welche Aussage ist falsch?

2000 Gramm sind...

- 2 kg
 20 kg
 genauso schwer wie 2 Liter
Wasser.
 2 t