

## ① Städte der Schweiz - Namen

/ 12

Gib an, um welche Städte es sich bei den abgefragten Nummern handelt! (siehe Karte unten)

Nr. 1: \_\_\_\_\_

Nr. 6: \_\_\_\_\_

Nr. 14: \_\_\_\_\_

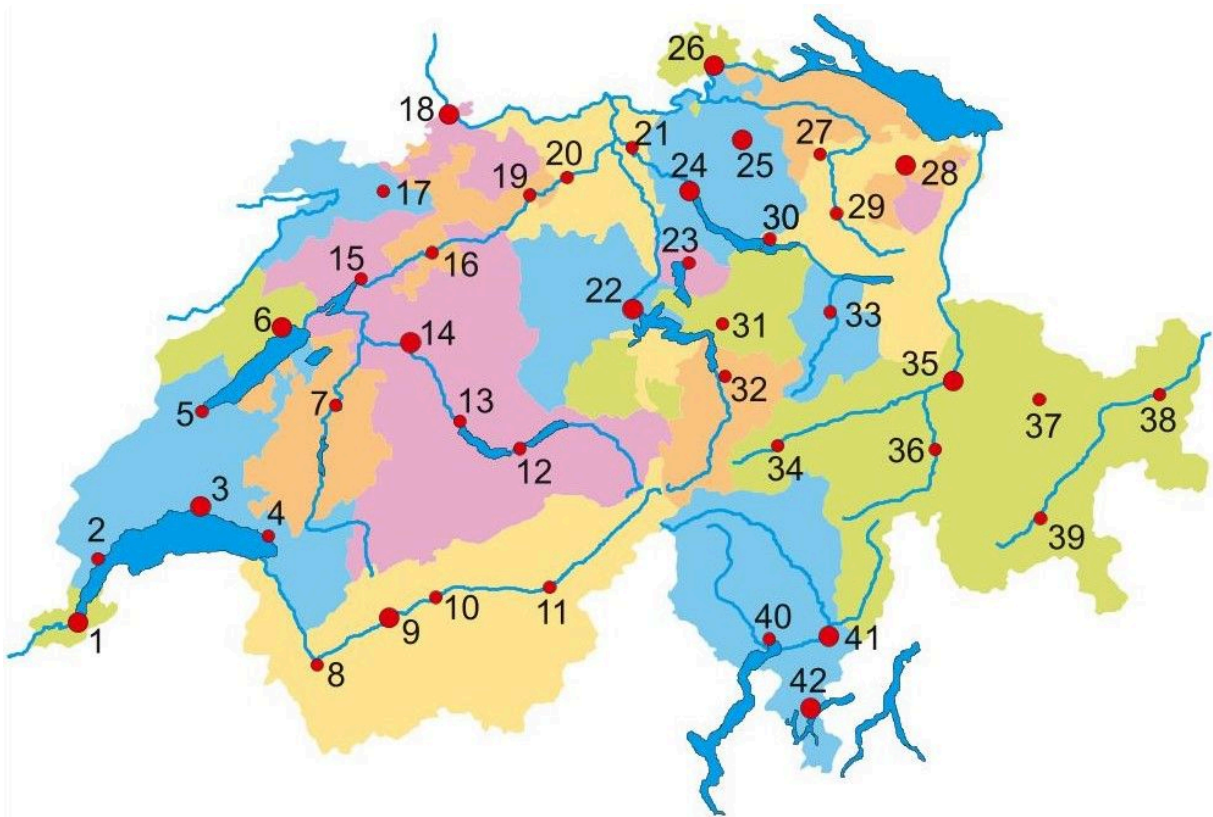
Nr. 16: \_\_\_\_\_

Nr. 24: \_\_\_\_\_

Nr. 26: \_\_\_\_\_

Nr. 35: \_\_\_\_\_

Nr. 42: \_\_\_\_\_



## ② Städte der Schweiz - Lage

/ 8

Gib an, welche Nummer zu den abgefragten Städten gehört! (siehe Karte oben)

Luzern: \_\_\_\_\_

Lugano: \_\_\_\_\_

St. Gallen: \_\_\_\_\_

Winterthur: \_\_\_\_\_

Solothurn: \_\_\_\_\_

Basel: \_\_\_\_\_

Lausanne: \_\_\_\_\_

Sion (Sitten): \_\_\_\_\_

## ③ Gewässer der Schweiz - Namen

/ 15

Gib an, um welche Flüsse und Seen der Schweiz es sich bei den abgefragten Nummern und Buchstaben handelt! (siehe Karten unten)

A: \_\_\_\_\_

L: \_\_\_\_\_

E: \_\_\_\_\_

H: \_\_\_\_\_

I: \_\_\_\_\_

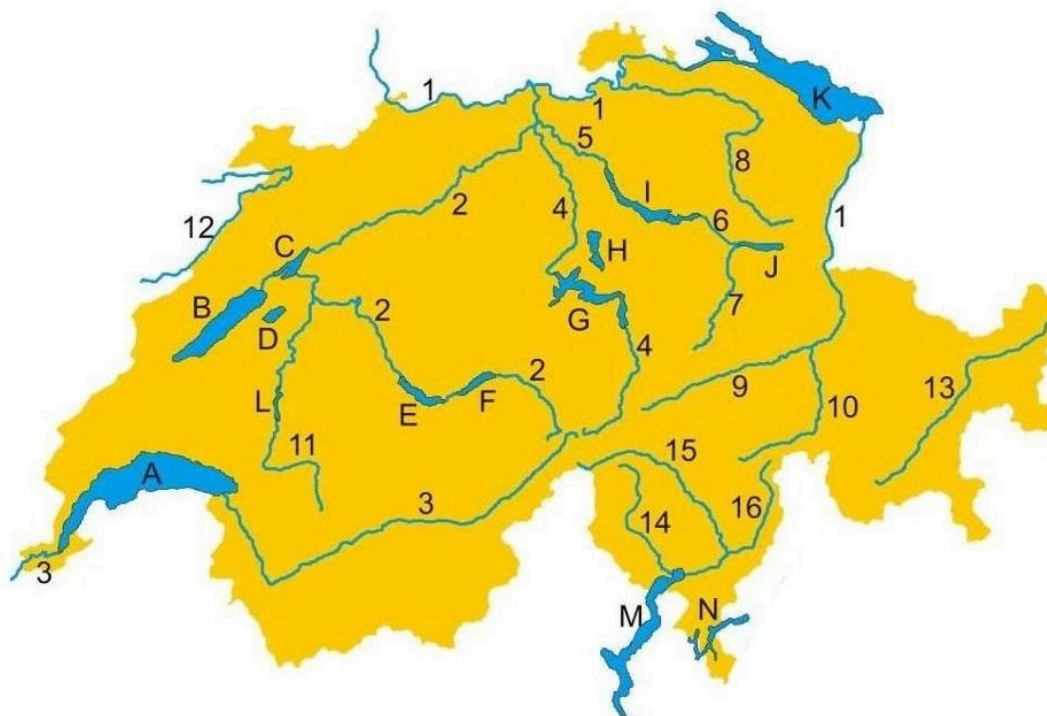
F: \_\_\_\_\_

M: \_\_\_\_\_

D: \_\_\_\_\_

2: \_\_\_\_\_

15: \_\_\_\_\_



## ④ Gewässer der Schweiz - Lage

/ 8

Gib an, welche Nummern und Buchstaben zu den abgefragten Flüssen und Seen der Schweiz gehören! (siehe Karten oben)

Vierwaldstättersee: \_\_\_\_\_

Lago di Lugano: \_\_\_\_\_

Neuenburgersee: \_\_\_\_\_

Bielersee: \_\_\_\_\_

Bodensee: \_\_\_\_\_

Walensee: \_\_\_\_\_

Rhône: \_\_\_\_\_

Ticino: \_\_\_\_\_

**⑤ Wohin fließt unser Wasser?**

/ 12

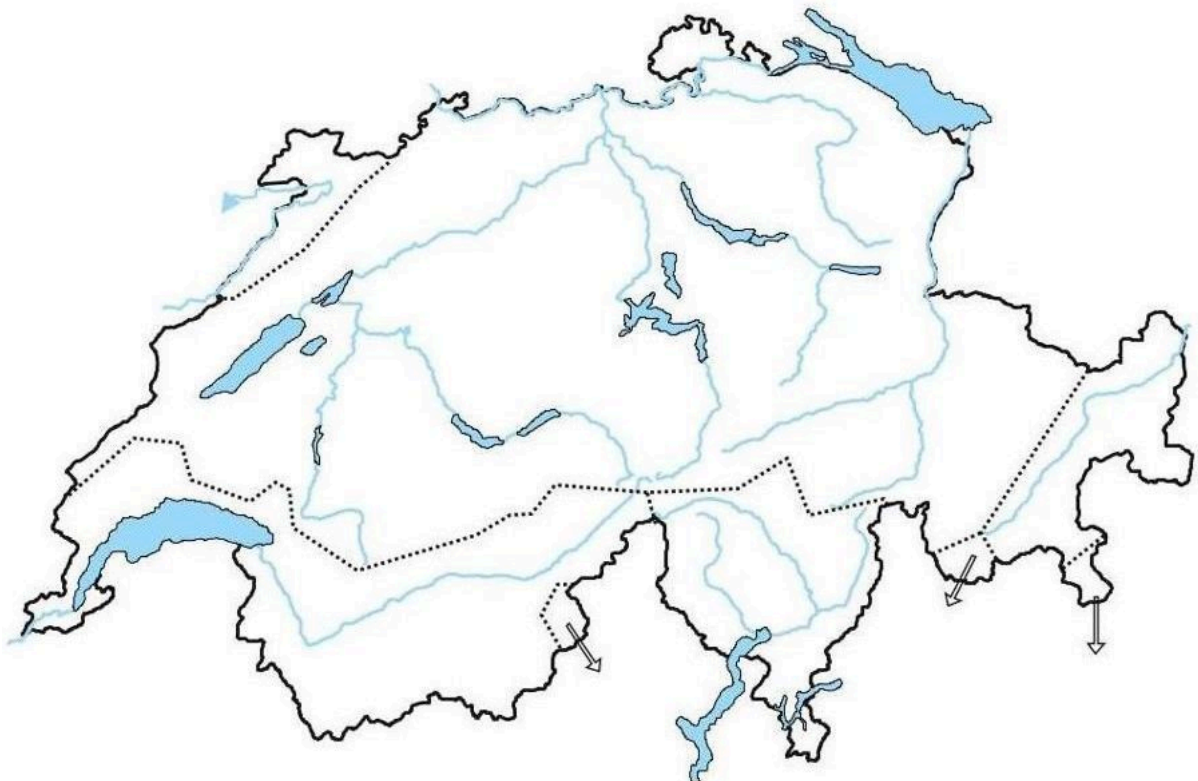
Das Wasser der Schweiz fließt über vier grosse Flüsse ins Meer.  
Gib die Namen der vier Flüsse an und die jeweiligen Meere, in die sie fließen!

\_\_\_\_\_ fließt in \_\_\_\_\_

\_\_\_\_\_ fließt in \_\_\_\_\_

\_\_\_\_\_ fließt in \_\_\_\_\_

\_\_\_\_\_ fließt in \_\_\_\_\_

**⑥ Wohin fließt unser Wasser? - Einzugsgebiet**

/ 8

Markiere die Einzugsgebiete der vier Flüsse auf der Karte oben in unterschiedlichen Farben und gib den jeweiligen Fluss an!

**Punkte: / 63****Note****Viel Erfolg!**