


- ① Überprüfe rechnerisch, ob die folgenden Tabellen antiproportional sind. / 4

21	7	14	10
6	18	9	12


9	6	3	18
4	6	12	2




- ② Berechne die fehlenden Werte in den Tabellen, die je eine zur antiproportionale Zuordnung darstellen. / 8

Länge	Breite
9	8
4	
	36
12	
	1

km/h	Zeit
12	12
	6
3	
2	
	1



- ③ Bäcker Manni erhält aus einer Teigmenge seine 36 Brote im XXL-Format mit je 5 kg. Sein Lehrling Winni übernahm eine Schicht und kam bei gleicher Teigmenge auf 45 Brote. Wie viel kg wiegt nun jedes Brot? / 4



Punkte: / 16

Viel Erfolg

