

☺ Zeichne in das Koordinatensystem folgende Punkte ein.

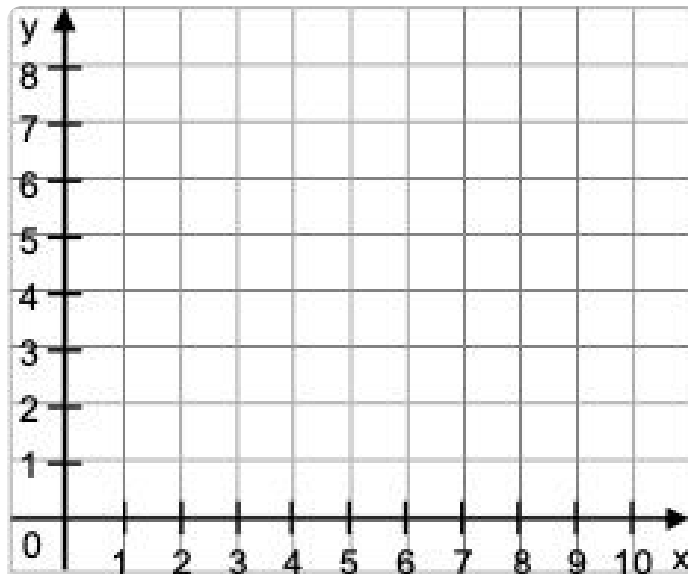
A ( 3 | 1 )

C ( 5 | 4 )

B ( 1 | 2 )

D ( 2 | 4 )

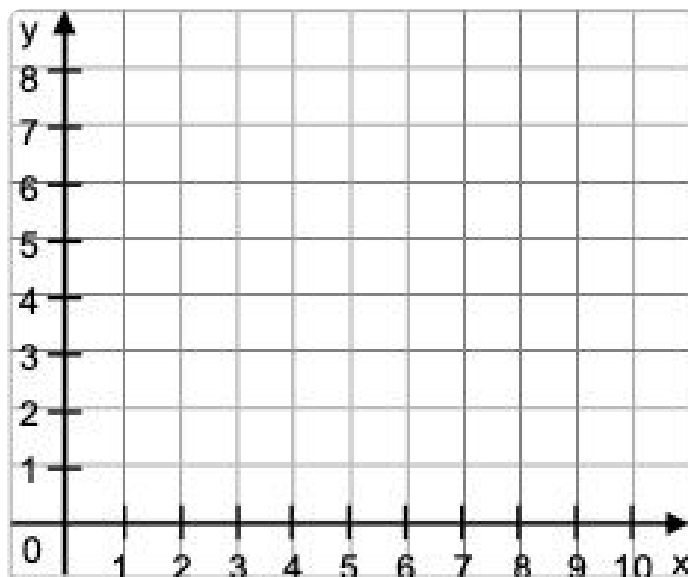
K 2



☺ Welche Punkte sind in dem Koordinatensystem eingezeichnet?  
Ergänze die Koordinaten:

A (  |  )C (  |  )B (  |  )D (  |  )

K 5




- Zeichne ein Koordinatensystem mit einer x-Achse von 5cm und einer y-Achse von 5cm. Trage in dieses Koordinatensystem folgende Punkte ein.

K 8

A (3 | 1)  
B (1 | 2)

C (5 | 4)  
D (2 | 4)



- Zeichne in das Koordinatensystem folgende Punkte ein:

A (0 | 0)  
B (1 | 1)  
C (3 | 3)

K 11

- Kannst du die Punkte miteinander verbinden?
- Wie müsste der nächste Punkt heißen?

D (  |  )

