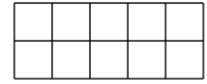
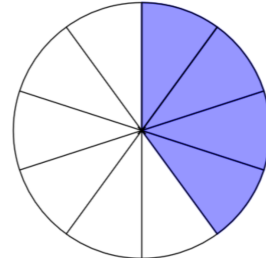
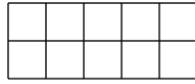
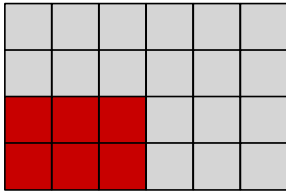


① Welcher Bruch (dunkel) wird angezeigt?

/ 2




② Zeichne zu den folgenden Brüchen ein passendes Bild.

/ 4

a) $\frac{3}{5}$

b) $\frac{5}{7}$

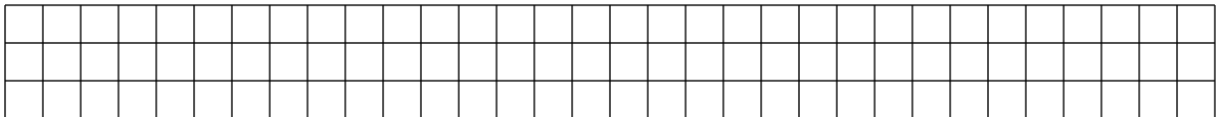


③ Wandle die folgenden gemischten Schreibweisen in unechte Brüche um.

/ 4

a) $4\frac{2}{7}$

b) $1\frac{5}{6}$

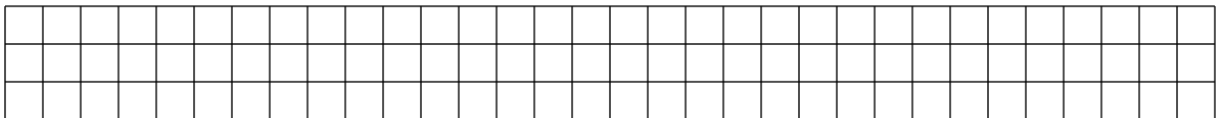


④ Wandle die folgenden unechten Brüche in eine gemischte Schreibweisen um.

/ 4

a) $\frac{13}{9}$

b) $\frac{76}{8}$



⑤ Kürze die folgenden Brüche vollständig.

/ 4

a) $\frac{15}{18}$

b) $\frac{21}{28}$

