


Note

① Dies ist meine erste Beispielaufgabe.

● / 1

$$\frac{3}{4} + \frac{2}{6} =$$

- Teilaufgabe 1
- Teilaufgabe 2



② Dies ist eine einfache Beispielaufgabe.

● / 1

- Klicken Sie doppelt oder auf den Stift, um den Inhalt **direkt im rechten Menü** zu bearbeiten.
- Nutzen Sie den roten Zauberpinsel oben rechts im Menü des Bausteins, um seinen Inhalt zu leeren.

Unterschrift

Punkte: / 2

③ Hier ist mein erster Lückentext.

Wir befinden uns heute im .

Heute ist .



Rechenweg

Um die volle Punktzahl zu erhalten, solltest du für das Lösen der Aufgaben stets den

Post-it

1

Erstes Kapitel aus dem Roman „Effi Briest“ von Theodor Fontane. Das Werk gilt als Geburtshelfer des deutschen Gesellschaftsromans.

In Front des schon seit Kurfürst Georg Wilhelm von der Familie von Briest bewohnten Herrenhauses zu Hohen-Cremmen fiel heller

- 5 Sonnenschein auf die mittagsstille Dorfstraße, während nach der Park- und Gartenseite hin ein rechtwinklig angebauter Seitenflügel einen breiten Schatten
- 10 erst auf einen weiß und grün quadrierten Fliesengang und dann über diesen hinaus auf ein großes, in seiner Mitte mit einer

Effi Briest



Schule

Die Schule ist eine Institution, an der Bildung durch Wissen und Können an Lernende vermittelt

④ Welche Tiere gehören zu den Säugetieren?

Antwort 1

Antwort 3

Antwort 2

⑤ Ordne zu!

blau ● Wiese

rot ● Himmel

Sortiere die Ereignisse nach ihrer Reihenfolge! (1-7)



Das Herz des Fötus beginnt zu schlagen.

Die befruchtete Eizelle nistet sich in der Gebärmutter ein.

Die Eizelle teilt sich.

Der Embryo bewegt Arme und Beine.

Die Eizelle wird befruchtet.

Das Baby wird geboren.

Der Embryo dreht sich im Mutterleib und rutscht in das Becken.



WEGWEISER 
Podcast

© Tobias Frischholz



So beginnt der Text...

⑥ Analysiere das Gespräch.

Geist: Wer ruft mir?

Faust wendet sich ab

Faust: Schreckliches Gesicht!

Geist: Du hast mich mächtig angezogen,
An meiner Sphäre lang gesogen,
Und nun –

Faust: Weh! ich ertrag dich nicht!

⑦ Ein Bauer erntet 258 Kilogramm Kartoffeln. Pro Monat benötigt seine Familie 43 Kilogramm. Wie lange reichen die Kartoffeln?

⑧ Berechne!

a) $6 + \square = 15$

d) $6 + \square = 10$

g) $10 + \square = 14$

b) $6 + \square = 8$

e) $3 + \square = 13$

h) $5 + \square = 8$

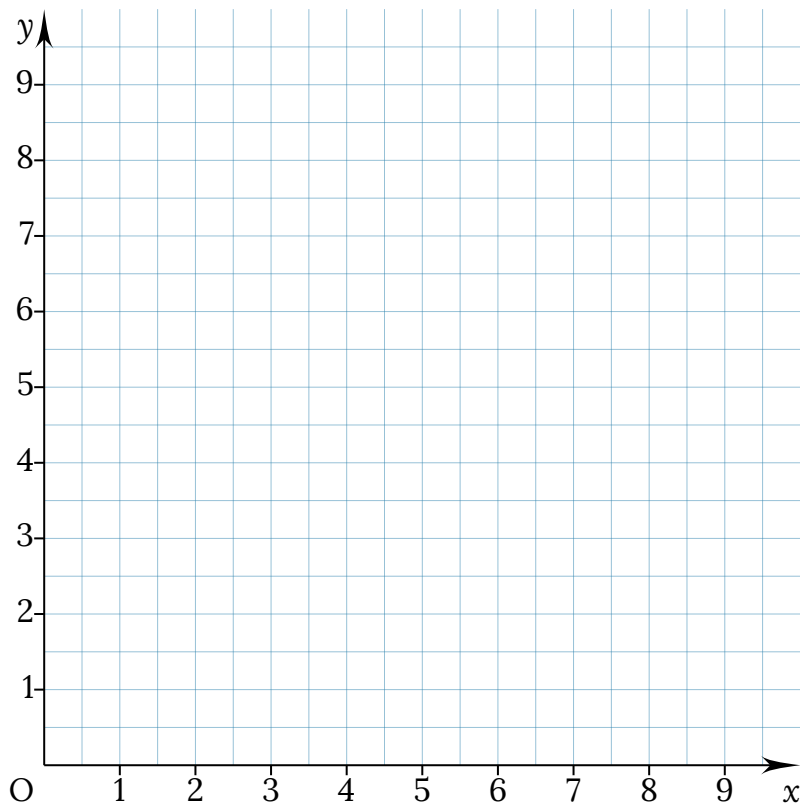
c) $6 + \square = 11$

f) $4 + \square = 7$

i) $7 + \square = 9$



Post-it

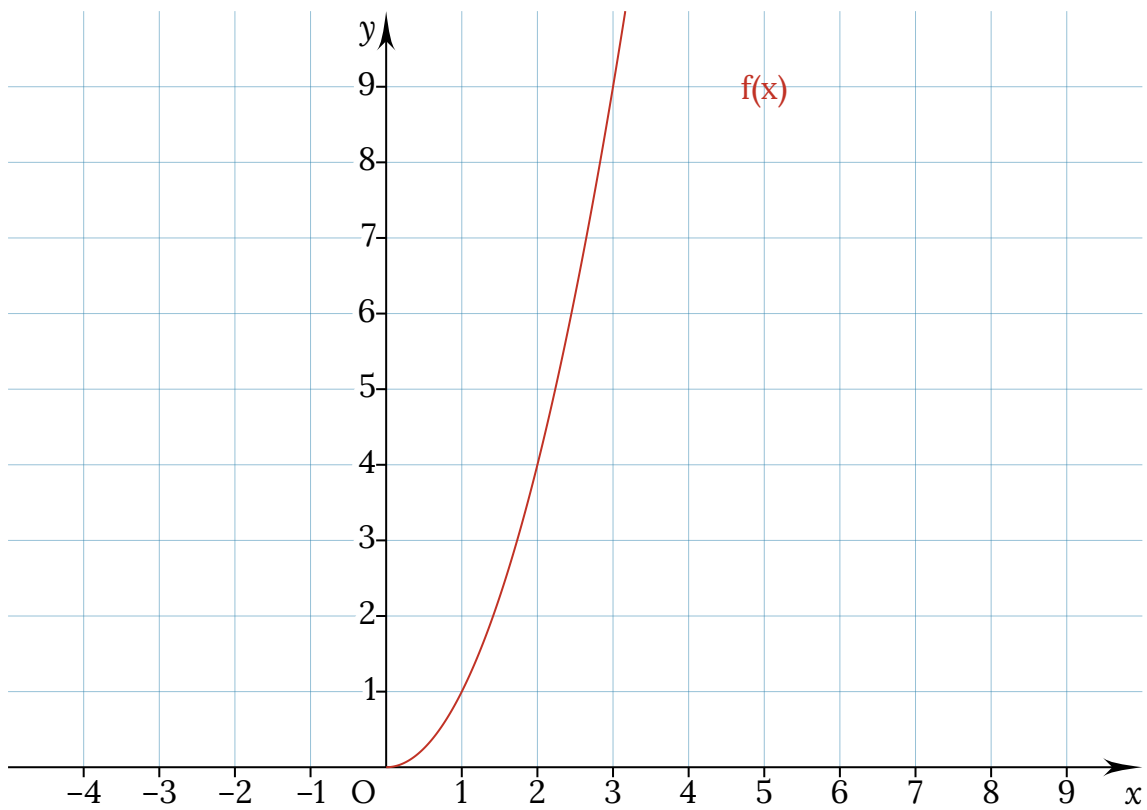


Textkarte



Textkarte





⑨ Welches Obst ist pink und pelzig?

H ₁ M ₂ ₃ ₄ ₅ ₆

1			<input type="radio"/> ₁				2
							<input type="radio"/> ₂
							<input type="radio"/> ₄
							<input type="radio"/> ₅
							<input type="radio"/> ₆
			<input type="radio"/> ₃				

Der Satz beginnt so...

1 orange und pelzig

2 rot und saftig

3 gelb und fleischig

4 bunt und knackig

