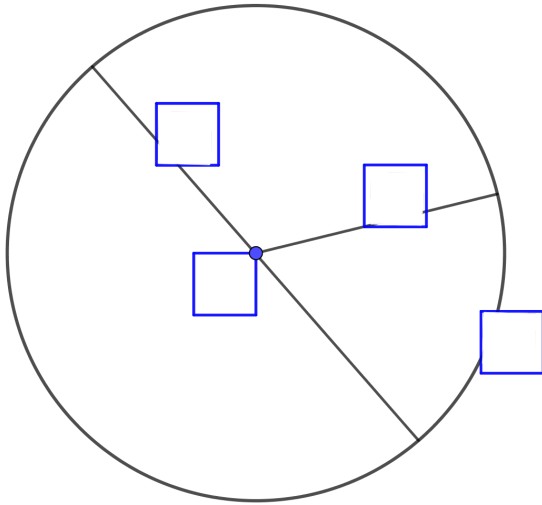


- ① Beschrifte nebenstehende Bestimmungsstücke (M , r , d , k) richtig in der Abbildung und benenne sie auch:



M : _____

r : _____

d : _____

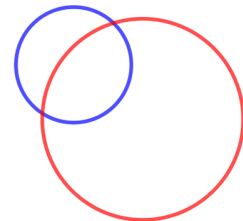
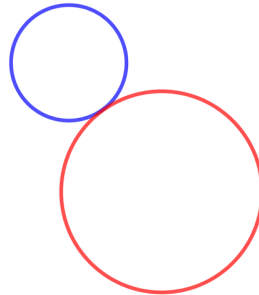
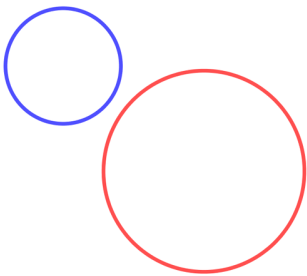
k : _____


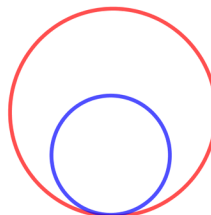
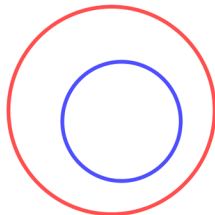
- ② In dem oben gegebenen _____ ist $d =$ _____ cm und $r =$ _____ mm.

- ③ Konstruiere einen Kreis dessen Radius 2,7 cm ist.



④ In welchen Lagebeziehungen sind die unten gezeichneten Kreise?





- ⑤ (HA) Mithilfe 6 bis 10 Kreisen, konstruiert ein Kunstwerk. Schreibt unter euren Bild die Durchmesser eurer Kreise.

Seit kreativ! :)

Beispiel:

