



## Bundesländer: Hessen

---

①  Zeichne die Flagge von Hessen und male sie in den korrekten Farben an.


②  Schreibe im ganzen Satz auf, wie die Hauptstadt von Hessen heißt.

---

---

---

---

③  Recherchiere wie viele Einwohner Hessen hat. Schreibe es im ganzen Satz auf.

---

---

---

---


- ④ Nenne die Bundesländer, die an Hessen grenzen. Du kannst dir auch die Karte im Atlas zur Hilfe nehmen.

---

---

---

---

- ⑤  Schreibe Städte auf, die sich in Hessen befinden. Warst du vielleicht schon mal in einigen davon?

---

---

---

---