





Bundesländer: Hessen

①  Zeichne die Flagge von Hessen und male sie in den korrekten Farben an.

②  Schreibe im ganzen Satz auf, wie die Hauptstadt von Hessen heißt.

③  Recherchiere wie viele Einwohner Hessen hat. Schreibe es im ganzen Satz auf.

- ④ Nenne die Bundesländer, die an Hessen grenzen. Du kannst dir auch die Karte im Atlas zur Hilfe nehmen.

- ⑤  Schreibe Städte auf, die sich in Hessen befinden. Warst du vielleicht schon mal in einigen davon?
