

BNT KA 2 Wirbellose / Blütenpflanzen

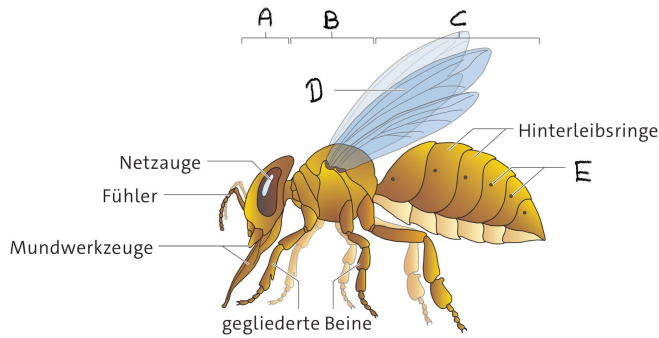
Punkte:	/ 33
---------	-------------

Note

Unterschrift

① Beschrifte die Körperteile (A-E) der Honigbiene.

● / 5



- A) _____
- B) _____
- C) _____
- D) _____
- E) _____

3 Körperbau der Honigbiene

② Nenne die drei unterschiedlichen Bienenwesen und beschreibe jeweils deren Aufgaben im Bienenvolk.

● / 6


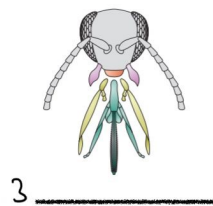
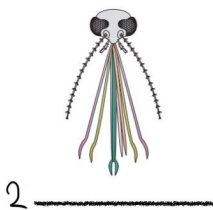
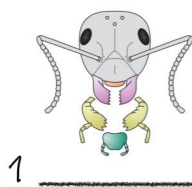
③ Sortiere die Begriffe nach ihrer Reihenfolge bei der Entwicklung! (1-4)

● / 2

- Vollinsekt
- Puppe
- Ei
- Larve

- ④ Erkläre den Begriff *Metamorphose* am Beispiel eines Schmetterlings (Tagpfauenauge).

/ 5



- ⑤ Wie heißen die Mundwerkzeuge und wem gehören sie? / 4

- a) Schreibe auf die Linien unter den Mundwerkzeugen 1-4 die Begriffe **beißend**, **saugend**, **stechend** und **saugend-leckend** in richtiger Reihenfolge.
- b) Nenne für jedes Mundwerkzeug ein **Insekt**, welches dieses besitzt.



- 1) _____
- 2) _____
- 3) _____
- 4) _____

⑥ Erkläre, wie sich Schnecken fortbewegen.

● / 2

⑦ Erkläre den Begriff *Zwitter* am Beispiel einer Schnecke.

● / 2

⑧ Welche Tiere gehören zu den Wirbellosen?

● / 3

- Vögel
- Delfine
- Wespen
- Ameisen
- Algen
- Muscheln
- Spinnen
- Löwenzahn
- Hunde
- Schmetterlinge
- Regenwürmer
- Katzen

⑨ Beschreibe den Grundbauplan von Blütenpflanzen und nenne die Aufgaben der einzelnen Teile.

● / 4
