

Allgemeine Geografie

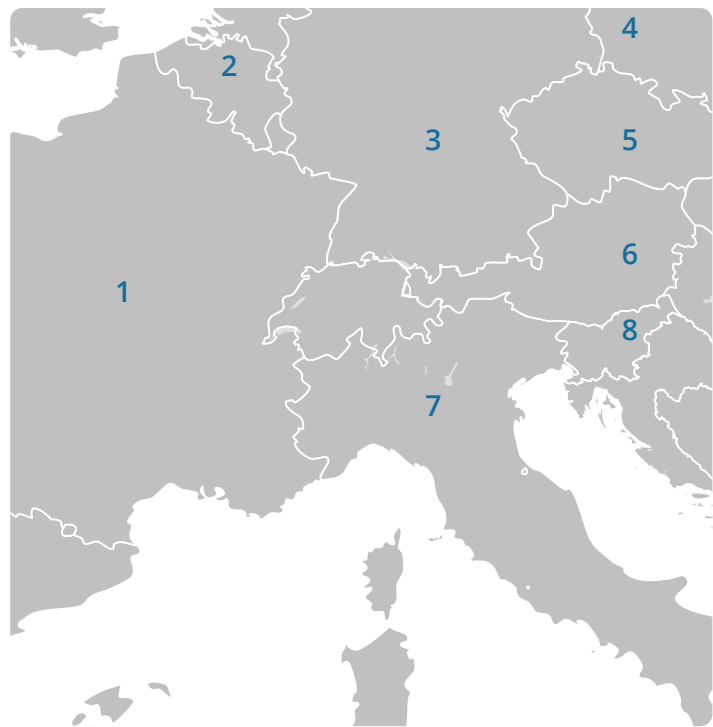
Dies soll kein sinnvolles Arbeitsblatt sein, sondern die Möglichkeiten von Tutoriy aufzeigen!

① Ordne die Nummern den richtigen Ländern zu.

/ 7

- Schreibe die jeweiligen Ländernamen links neben der Karte zu den passenden Nummern
- Benutze keine Hilfsmittel!

- Belgien
- Frankreich
- Deutschland
- Italien
- Österreich
- Tschechien
- Polen



Blank Map of Europe, Wikipedia

② Verbinde folgende Flüsse durch Striche mit dem passenden Kontinent!

/ 4

- | | |
|------------|---------------|
| Niger ● | ○ Nordamerika |
| Ganges ● | ○ Asien |
| Amazonas ● | ○ Südamerika |
| Yukon ● | ○ Afrika |

③ Sortiere die Kantone nach ihrer Grösse. Je grösser desto kleiner die Zahl. (1-6)

/ 6

- Zürich
- Thurgau
- Luzern
- Glarus
- Graubünden
- Basel-Stadt

④ Setze die richtigen Wörter in die Lücken ein.

/ 6

- Apulien Inselgruppe Land Nigeria
 Region Staaten

Zu den USA gehören 50 .

ist eine in Süditalien.

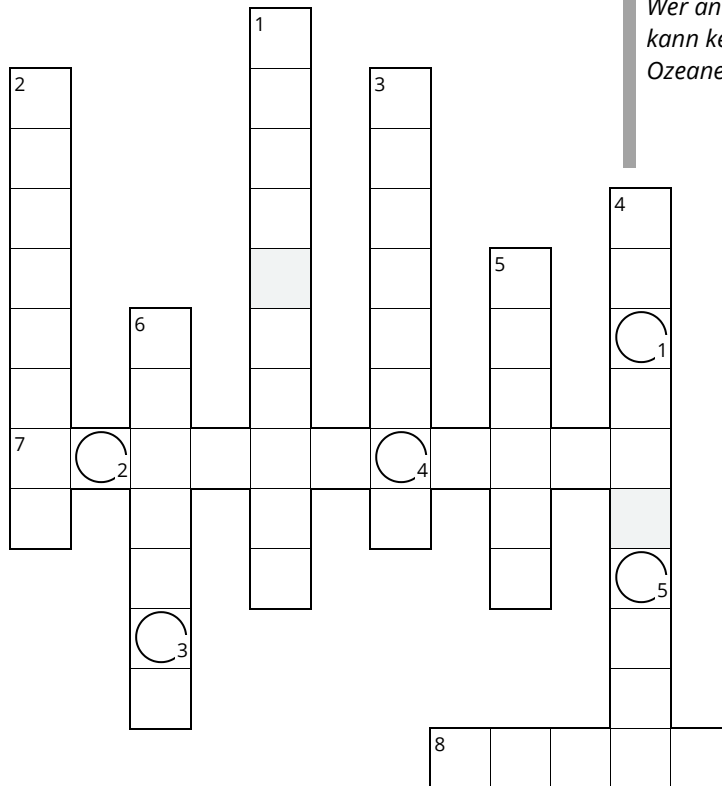
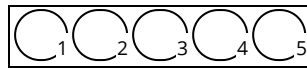
ist ein in Afrika.

Die Azoren sind eine im Atlantik.

⑤ Finde das Lösungswort heraus, indem du deine geografischen Kenntnisse einsetzt.

- Ö, Ä und Ü werden als „OE“, „AE“ bzw. „UE“ geschrieben!
- Hat ein Wort einen Abstand, wird ein Feld leer gelassen!

1 / 8



Wer an der Küste bleibt,
kann keine neuen
Ozeane entdecken!

Ferdinand Magellan

Achtung!
Es handelt sich
nicht nur um
Europa!

Unterschrift

Punkte: / 31

Note