


- ① Recherchiert in Eurer Lerngruppe zu den Begriffen „Gerade“, „Strecke“ und „Halbgerade“.

Beantwortet hierzu die Fragen unter dem folgenden Link:

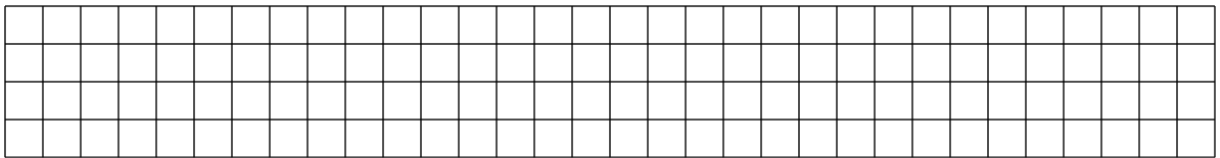
<https://forms.office.com/e/bTGDPk2AvH>



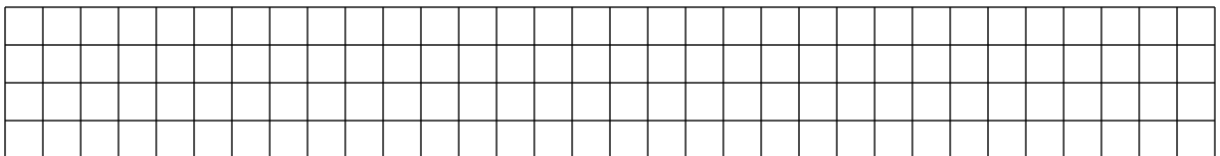
- ② Zeichne eine beliebige **Gerade**. Verwende für die Beschriftung der Punkte und Gerade die Buchstaben A, B und g.



- ③ Zeichne eine beliebige **Strecke**. Verwende für die Beschriftung der Punkte und Gerade die Buchstaben A, B und s.

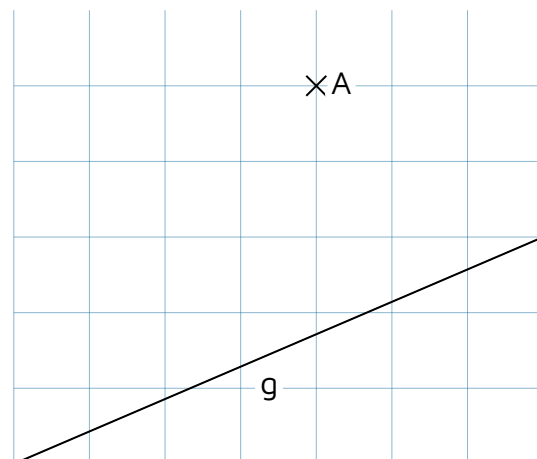


- ④ Zeichne eine beliebige **Halbgerade**. Verwende für die Beschriftung der Punkte und Gerade die Buchstaben A, B und h.



- ⑤ Bestimme den Abstand des Punktes von der Geraden.

(Eine kleine Vorschau.)



- ⑥ Inga ist stolz auf sich. Sie hat es geschafft aus Geraden einen Kreis zu zeichnen. Wie hat Sie dies wohl gemacht? Versuche es selbst.