


- ① Recherchiert in Eurer Lerngruppe zu den Begriffen „Gerade“, „Strecke“ und „Halbgerade“.

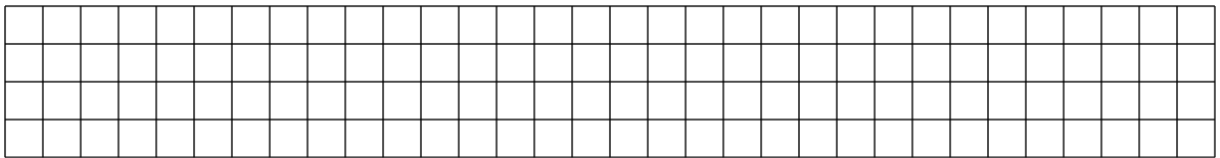
Beantwortet hierzu die Fragen unter dem folgenden Link:  
[t1p.de/gsp1](http://t1p.de/gsp1)



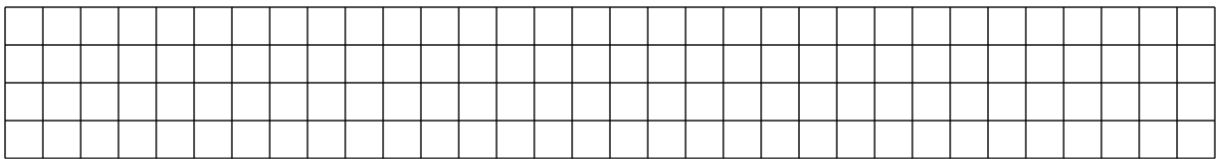
- ② Zeichne eine beliebige Gerade. Verwende für die Beschriftung der Punkte und Gerade die Buchstaben A, B und g.



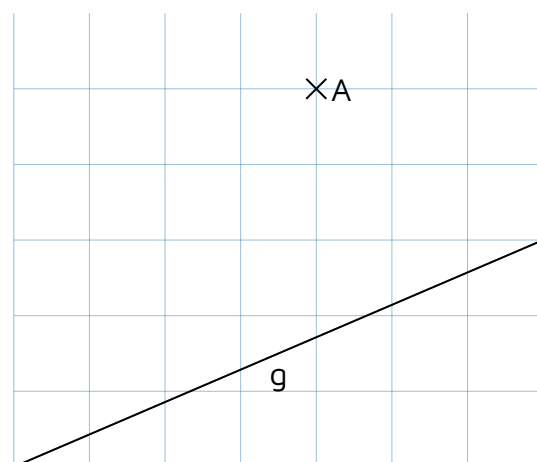
- ③ Zeichne eine beliebige Strecke. Verwende für die Beschriftung der Punkte und Gerade die Buchstaben A, B und s.



- ④ Zeichne eine beliebige Halbgerade. Verwende für die Beschriftung der Punkte und Gerade die Buchstaben A, B und h.



- ⑤ Bestimme den Abstand des Punktes von der Geraden.



- ⑥ Inga ist stolz auf sich. Sie hat es geschafft aus Geraden einen Kreis zu zeichnen. Wie hat Sie dies wohl gemacht? Versuche es selbst.