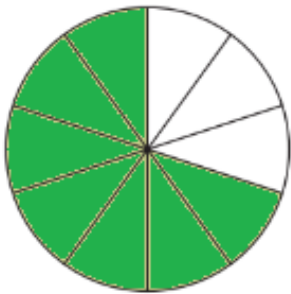
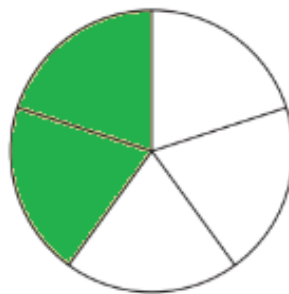


- 1) Gibt es eine oder mehrere Zahlen zwischen 0,11 und 0,12?
Begründe mithilfe der Stellenwerttafel oder des Zahlenstrahls.


- 2) Gib die gefärbten Bruchteile als Bruch sowie in Prozent- und Dezimalschreibweise an.



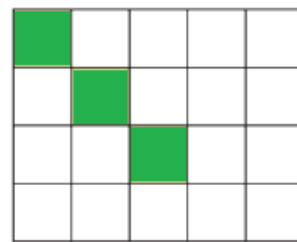
a)



b)



c)



d)

