

Wir konstruieren das „magische“ Ei

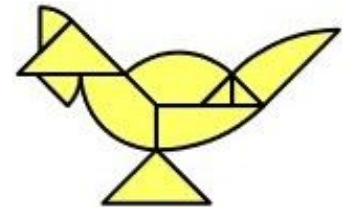


Hinweis zu dieser Partnerarbeit

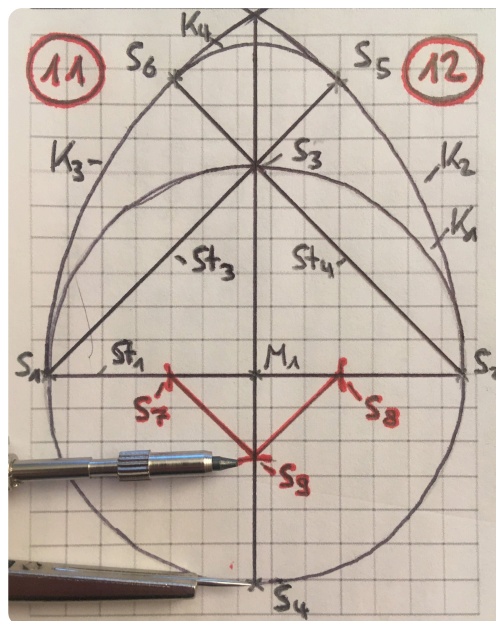
Lies dir die **Aufgaben** jeweils *aufmerksam durch* und *beschrifte* alles **wie vorgegeben (mit Bleistift)**, damit du den **Überblick** behältst. *Kläre* mögliche **Fragen mit deinem Partner (flüstern)**. Am **Lehrerpult** stehen euch gegebenenfalls gestufte **Tippkarten** zu einzelnen Schritten zur Verfügung. **Arbeite** möglichst **genau!**

- ① **Markiere** im Kästchenfeld (in der Mitte des Blattes) einen **Punkt**, der **ca. 3cm** von der **unteren Feldbegrenzung** und jeweils etwa **gleich weit** von der **rechten und linken Feldbegrenzung** entfernt ist. **Beschrifte** ihn mit M_1 .

- ② **Stelle** deinen Zirkel auf den **Radius 3cm** ein und **zeichne** um den Punkt M_1 einen ganzen **Kreis** K_1 .

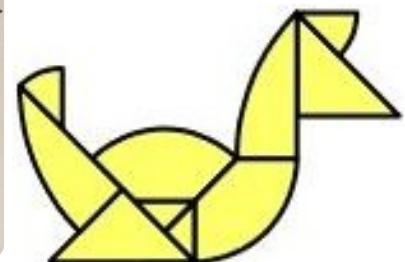


- ③ **Zeichne** eine **Strecke** St_1 ein, die **waagrecht** liegt, **durch** den Punkt M_1 geht und genau **durch** den eingezeichneten Kreis K_1 geht (**Durchmesser**).



- ④ Die Strecke St_1 **schneidet** den Kreis K_1 **links** und **rechts**. **Nenne** den **linken Schnittpunkt** S_1 und den **rechten Schnittpunkt** S_2 .

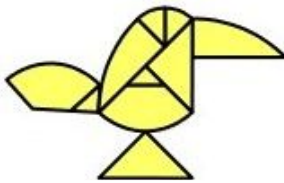
- ⑤ **Zeichne** eine **Strecke** St_2 ein, die **senkrecht** **durch** den Punkt M_1 und **durch** das **gesamte Kästchenfeld** geht.



- ⑥ Die Strecke St_2 **schneidet** den Kreis K_1 **oben** und **unten**. **Nenne** den **Schnittpunkt oben** S_3 und **unten** S_4 .

- ⑦ **Stelle** deinen Zirkel auf den **Radius 6cm** ein (von S_1 bis S_2) und **zeichne** um den Punkt S_1 einen **Viertelkreis** K_2 (von S_2 nach oben). **Wiederhole** den **Vorgang** um Punkt S_2 (K_3).


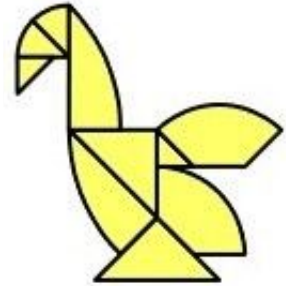
- ⑧ **Zeichne** eine **Strecke** St_3 ein, die **von** Punkt S_1 **durch** S_3 und **bis** K_2 geht und eine **Strecke** St_4 ein, die **von** Punkt S_2 **durch** S_3 und **bis** K_3 geht.



- ⑨ Die Strecke St_3 **schneidet** den Viertelkreis K_2 . **Nenne** den **Schnittpunkt S_5** . Die Strecke St_5 **schneidet** den Viertelkreis K_3 . **Nenne** den **Schnittpunkt S_6** .

- ⑩ **Stelle** deinen Zirkel auf den **Radius** der Strecke **von S_3 bis S_5 ein** und **zeichne um** den Punkt S_3 einen **Viertelkreis K_4 von S_5 nach S_6** .

- ⑪ **Trage mit dem gleichen Radius** (von S_3 bis S_5) **um** den Punkt S_1 **auf** der Strecke St_1 eine kleine **Markierung S_7 ein**. **Wiederhole** den **Vorgang um** Punkt S_2 (S_8) **und um** Punkt S_4 **auf** der Strecke St_2 (S_9).




- ⑫ **Verbinde** die Punkte S_7 **und** S_9 **und** die Punkte S_8 **und** S_9 .

- ⑬ **Zeichne alle benötigten Markierungen** (siehe auf dem Bild links) auf deiner Konstruktion **mit Füller nach und radiere** anschließend **alle überflüssigen Linien und Markierungen weg**. Das magische Ei ist fertig!

Aufgaben für schnelle Paare:

- ⑭ Albert behauptet, dass der **Abstand von S_1 und S_2 und S_9 zu S_3 jeweils gleich groß** ist. Versuche **zeichnerisch zu überprüfen, ob er recht hat**. (Tipp: nutze den Zirkel)

- ⑮ Albert behauptet auch, dass der **Abstand von der Eispitze zu den Punkten S_1 , S_2 und S_9 jeweils gleich groß** ist. Versuche **zeichnerisch zu überprüfen, ob er recht hat**. (Tipp: nutze den Zirkel)



- ⑯ Links findest du die **Abbildung des „gebrochenen Herzes“**. Genau wie das „magische Ei“, kann auch das „gebrochene Herz“ **mit einem Zirkel und einem Lineal konstruiert** werden. Versuche das **„gebrochene Herz“ in deinem Heft zu konstruieren und schreibe** dann eine **Konstruktionsanleitung** dazu. (Tipp: das Herz besteht aus einem **Quadrat** und **zwei Halbkreisen**)