

Abschlussarbeit Klasse 8

Zahlen

① Wie heißen die Zahlen?

/ 4

M	HT	ZT	T	H	Z	E
1	2	3	3	7	9	0
		4	3	2	0	0
	7	2	2	4	0	1
			37	9	5	0

② Wahr oder falsch?

/ 3

Kreuze an:

	wahr	Falsch
1 HT > 1 ZT	<input type="radio"/>	<input type="radio"/>
1 T = 10 H	<input type="radio"/>	<input type="radio"/>
1 M = 100 T	<input type="radio"/>	<input type="radio"/>

③ Ordne der Größe nach:

/ 4

66.090 < 18.000 < 2.340 < 54.982

④ Rechne **schriftlich**.

/ 4

Benutze dazu ein **extra** Blatt.

• $23.908 + 27.102$

• 5678×6

• $90.257 - 6.547$

• $8622 : 9$

⑤ Setze die Zahlenreihe fort.


/ 5

a)	7,6	7,8	8,0				
b)	1,3	1,6	1,9				3,4
c)	6,3	5,9	5,5				4,3

Brüche

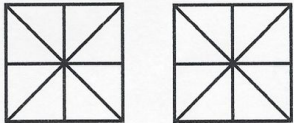



① Welcher Bruchteil ist grau gefärbt?

● / 4



② Färbe die Bruchteile, notiere die Brüche und ergänze die Rechnung.

● / 6

Bruchteile	Bruchteile addiert	Rechnung
 $\frac{5}{8} + \frac{2}{8}$		$\frac{5}{8} + \frac{2}{8} = \underline{\quad}$
 $\frac{2}{6} + \frac{3}{6}$		$\frac{2}{6} + \frac{3}{6} = \underline{\quad}$

Winkel

① Zeichne die Winkel mit dem Geodreieck. Nimm dazu ein **extra** Blatt. / 3

a) 90° b) 120° c) 30°

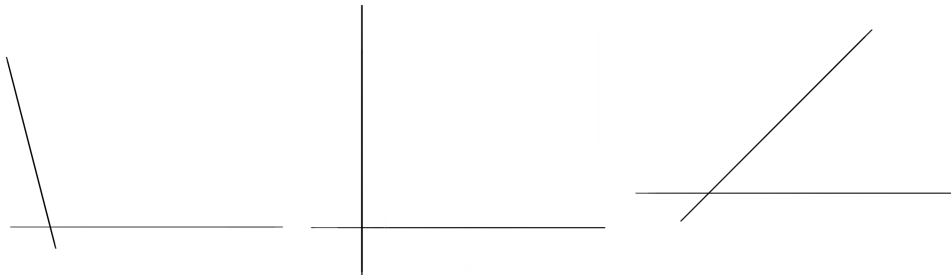
② Wie nennt man die Winkel? / 3

Verbinde:

Rechter Winkel

Spitzer Winkel

Stumpfer Winkel



③ Wahr oder falsch? / 4

	wahr	falsch
Ein gestreckter Winkel hat 0° .	<input type="radio"/>	<input type="radio"/>
Ein Vollwinkel hat 360° .	<input type="radio"/>	<input type="radio"/>
Ein rechter Winkel hat 90° .	<input type="radio"/>	<input type="radio"/>
Der Nullwinkel hat 180° .	<input type="radio"/>	<input type="radio"/>

Zuordnungen

① Fülle die Tabellen aus. / 3

Denke an die Rechenpfeile.

Gewicht in kg	Preis in €
4	3
8	<input type="text"/>

Anzahl der Personen	Verbrauch in l
6	18
3	<input type="text"/>

Punkte:

/ 43