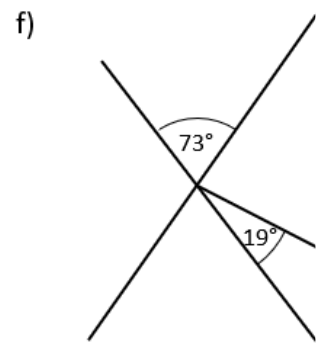
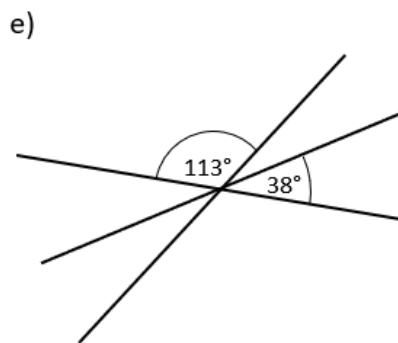
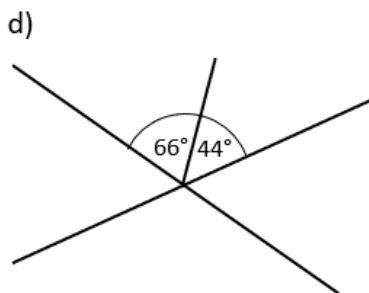
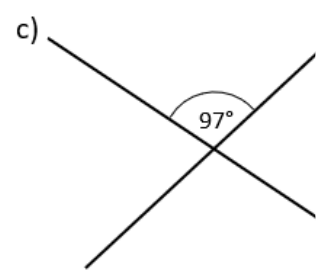
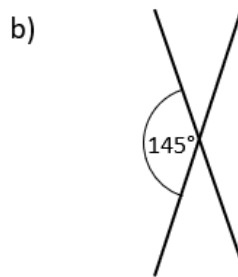
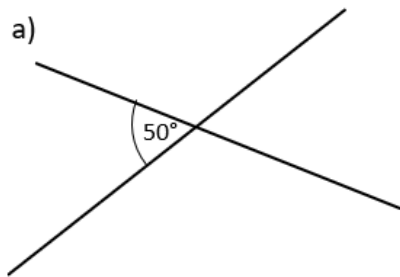


- ① **Markiere** gleichgroße Winkel in derselben Farbe.
- ② **Berechne** die fehlenden Winkel ohne zu messen. (Die Zeichnungen sind **nicht maßstabsgetreu!**)
- Tipp: Wenn du Schwierigkeiten hast, die Übersicht zu behalten, dann zeichne die Figuren in dein Heft und markiere zunächst zwei Geraden farblich.



4. Neben- und Scheitelwinkel

Kiwi lernt bei einem Ausflug ein merkwürdiges Schild kennen und betrachtet daran besondere Verhältnisse.



YouTube-
Video

Link: <https://youtu.be/77HXe2C0RAs>