


- ③ **Nutze die Informationen aus dem 2. Erklärvideo** und **zeichne** die Winkel in der angegebenen Weite **nach**.

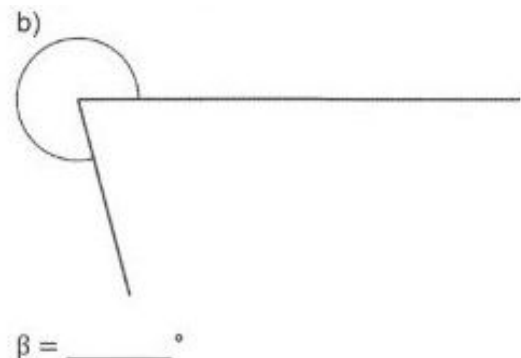
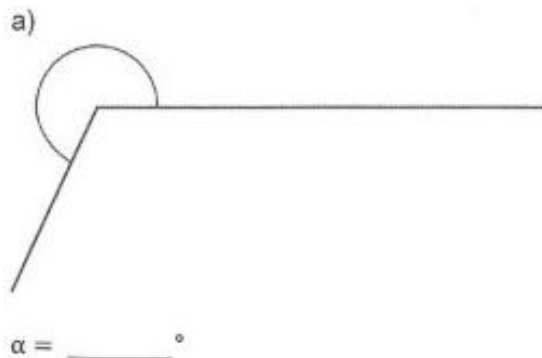
$$\alpha = 72^\circ$$

$$\beta = 108^\circ$$

$$*\gamma = 145^\circ$$



- ④ **Nutze die Informationen aus dem 3. Erklärvideo** und **messe** die **gesuchten Winkel**.



- ⑤ **Nutze die Informationen aus dem 3. Erklärvideo** und **zeichne Winkel mit** der angegebenen Weite **ein**.

$$\alpha = 270^\circ$$

$$\beta = 333^\circ$$

$$*\gamma = 201^\circ$$

