

- ① Geh auf den Schulhof und miss die Entfernung zwischen der Turnhalle und dem Haupteingang / 2
- Nutze dazu das Maßband
- ② Geh auf den Schulhof und miss die Entfernung zwischen der Turnhalle und dem Haupteingang / 1
- Nutze dazu das Maßband
- ③ Geh auf den Schulhof und miss die Entfernung zwischen der Turnhalle und dem Haupteingang / 1
- Nutze dazu das Maßband

Punkte:

/ 4

④ Schreibe die richtigen Wörter in die Felder!

Tutory ist ein Tool, um Arbeitsblätter zu erstellen!

⑤ Setze die richtigen Artikel! Beachte dabei die Groß- und Kleinschreibung!

Das 1x das 2x Der 1x

Haus ist groß.

Ich fahre Auto.

Ball ist rund und Tor ist eckig.

Textkarte

1
Erstes Kapitel aus dem Roman „Effi Briest“ von Theodor Fontane. Das Werk gilt als Geburtshelfer des deutschen Gesellschaftsromans.

In Front des schon seit Kurfürst Georg Wilhelm von der Familie von Briest bewohnten Herrenhauses zu Hohen-Cremmen fiel heller Sonnenschein auf die mittagsstille

¹⁰ Dorfstraße, während nach der Park- und Gartenseite hin ein rechtwinklig angebauter ¹⁵ Seitenflügel einen breiten Schatten erst auf einen weiß und grün quadrierten

Effi Briest

Ich würde keinen Sinn in meinem Leben sehen, wenn ich nicht überzeugt wäre, dass Musik etwas bewirkt.

Kurt Masur

⑥ Ein Bauer erntet 300 Kilogramm Kartoffeln. Pro Monat benötigt seine Familie 30 Kilogramm. Wie lange reichen die Kartoffeln?

⑦ Berechne!

⑧ Finde alle Wörter, die etwas mit Obst zu tun haben.

G Ä J E O E R D B E E R E Ö
 B M J R B A N A N E O E N K
 O M N D J W Y N J Ü S I T E
 G W Q B Ä R J Z U M E B X W
 Z G H E B E B E T R P F S L
 Ö A P R I K O S E J D M M A
 A Z H E Ä K C N A P F E L U
 B X S U A X E I I B T R H C
 Ä G N A H A S E L N U S S H

⑨ Welche Tiere gehören zu den Säugetieren?

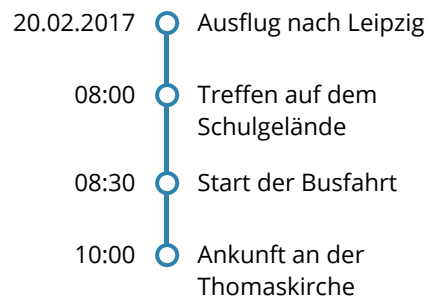
- Hunde
- Katzen
- Vögel
- Delfine

⑩ Sortiere die Ereignisse nach ihrer Reihenfolge!
(1-7)

<input type="checkbox"/>	Die befruchtete Eizelle nistet sich in der Gebärmutter ein.		
<input type="checkbox"/>	Die Eizelle wird befruchtet.	gut	nicht so gut
<input type="checkbox"/>	Der Embryo bewegt Arme und Beine.	<input type="radio"/>	<input type="radio"/>
<input type="checkbox"/>	Das Herz des Fötus beginnt zu schlagen.	<input type="radio"/>	<input type="radio"/>
<input type="checkbox"/>	Der Embryo dreht sich im Mutterleib und rutscht in das Becken.	<input type="radio"/>	<input type="radio"/>
<input type="checkbox"/>	Die Eizelle teilt sich.		
<input type="checkbox"/>	Das Baby wird geboren.		

12) Ordne zu

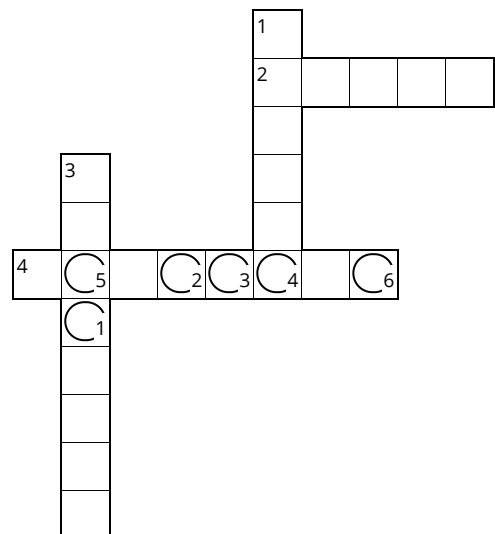
- grün • ○ Himmel
- blau • ○ Wiese



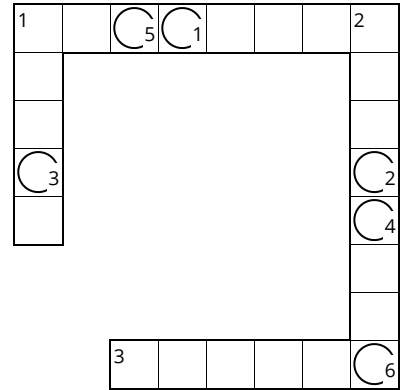
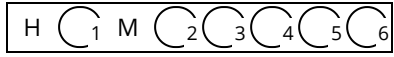
$$f(x) = x^2 + 2x + 1$$

13) Welches Obst ist pink und pelzig?

H C₁ M C₂ C₃ C₄ C₅ C₆



14) Welches Obst ist pink und pelzig?



- 1 orange und pelzig
- 1 bunt und knackig
- 2 rot und saftig
- 3 gelb und fleischig

- 1 gelb und fleischig
- 2 bunt und knackig
- 3 orange und pelzig