

- ① Geh auf den Schulhof und miss die Entfernung zwischen der Turnhalle und dem Haupteingang / 2  
• Nutze dazu das Maßband
- ② Geh auf den Schulhof und miss die Entfernung zwischen der Turnhalle und dem Haupteingang / 1  
• Nutze dazu das Maßband
- ③ Geh auf den Schulhof und miss die Entfernung zwischen der Turnhalle und dem Haupteingang / 1  
• Nutze dazu das Maßband

Punkte: **/ 4**

④ Schreibe die richtigen Wörter in die Felder!

Tutory ist ein  Tool, um Arbeitsblätter zu erstellen!

⑤ Setze die richtigen Artikel! Beachte dabei die Groß- und Kleinschreibung!

Das  1x    das  2x    Der  1x

Haus ist groß.

Ich fahre  Auto.

Ball ist rund und  Tor ist eckig.

Textkarte

**1**  
**Erstes Kapitel aus dem Roman „Effi Briest“ von Theodor Fontane. Das Werk gilt als Geburtshelfer des deutschen**

**Gesellschaftsromans.**

In Front des schon seit Kurfürst Georg Wilhelm von der Familie von Briest bewohnten Her-

renhauses zu Hohen-Cremmen fiel heller Sonnenschein auf die mittagsstille Dorfstraße, während nach der Park- und Gartenseite

Effi Briest

*Ich würde keinen Sinn in meinem Leben sehen, wenn ich nicht überzeugt wäre, dass Musik etwas bewirkt.*

Kurt Masur

⑥ Ein Bauer erntet 300 Kilogramm Kartoffeln. Pro Monat benötigt seine Familie 30 Kilogramm. Wie lange reichen die Kartoffeln?

⑦ Berechne!

⑧ Finde alle Wörter, die etwas mit Obst zu tun haben.

G Ä J E O E R D B E E R E Ö  
 B M J R B A N A N E O E N K  
 O M N D J W Y N J Ü S I T E  
 G W Q B Ä R J Z U M E B X W  
 Z G H E B E B E T R P F S L  
 Ö A P R I K O S E J D M M A  
 A Z H E Ä K C N A P F E L U  
 B X S U A X E I I B T R H C  
 ä c n a u a c e i n u c c u

⑨ Welche Tiere gehören zu den Säugetieren?

- Hunde  
 Katzen  
 Vögel

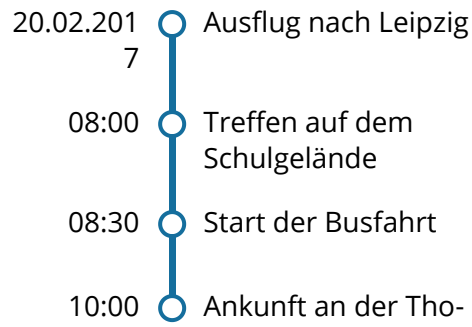
⑩ Sortiere die Ereignisse nach ihrer Reihenfolge! (1-7)

<input type="checkbox"/>	Die befruchtete Eizelle nistet sich in der Gebärmutter ein.			
<input type="checkbox"/>	Die Eizelle wird befruchtet.	<b>t</b>	<b>gut</b>	<b>nicht so gut</b>
<input type="checkbox"/>	Der Embryo bewegt Arme und Beine.		<input type="radio"/>	<input type="radio"/>
<input type="checkbox"/>	Das Herz des Fötus beginnt zu schlagen.		<input type="radio"/>	<input type="radio"/>
<input type="checkbox"/>	Der Embryo dreht sich im Mutterleib und rutscht in das Becken.		<input type="radio"/>	<input type="radio"/>
<input type="checkbox"/>	Die Eizelle teilt sich.			
<input type="checkbox"/>	Das Baby wird geboren.			

⑫ Ordne zu

grün • ◦ Himmel

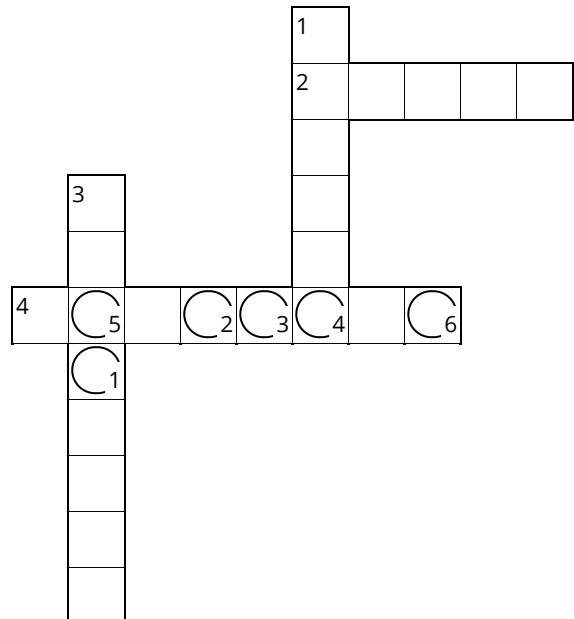
blau • ◦ Wiese



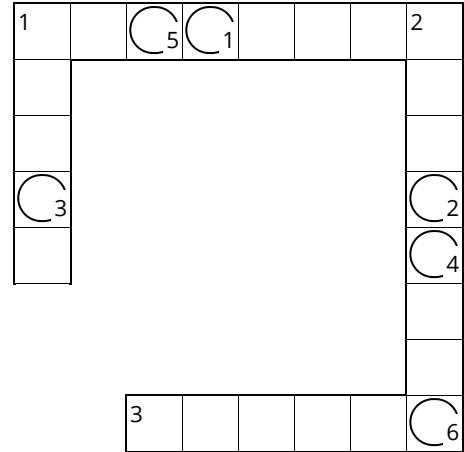
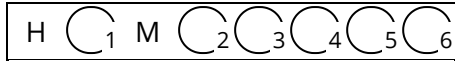
$$f(x) = x^2 + 2x + 1$$

⑬ Welches Obst ist pink und pelzig?

H C<sub>1</sub> M C<sub>2</sub> C<sub>3</sub> C<sub>4</sub> C<sub>5</sub> C<sub>6</sub>



14) Welches Obst ist pink und pelzig?



- 1 orange und pelzig
- 1 bunt und knackig
- 2 rot und saftig
- 3 gelb und fleischig

---



---



---



---

- 1 gelb und fleischig
- 2 bunt und knackig
- 3 orange und pelzig