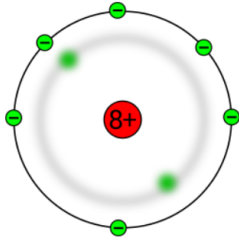
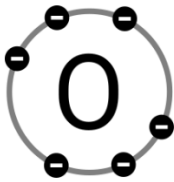



- ① Halte entsprechend des Videos die Notizen fest, wie wir das Modell des Sauerstoff-Atoms weiterentwickeln.



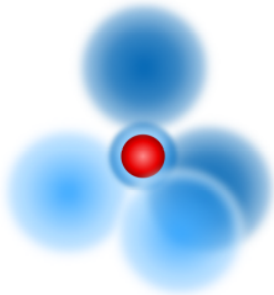
Name der Darstellung:



Name der Darstellung:



Name der Darstellung:



Name der Darstellung:



Name der Darstellung:



Name der Darstellung: