

• Zeichne in das Koordinatensystem folgende Punkte ein.

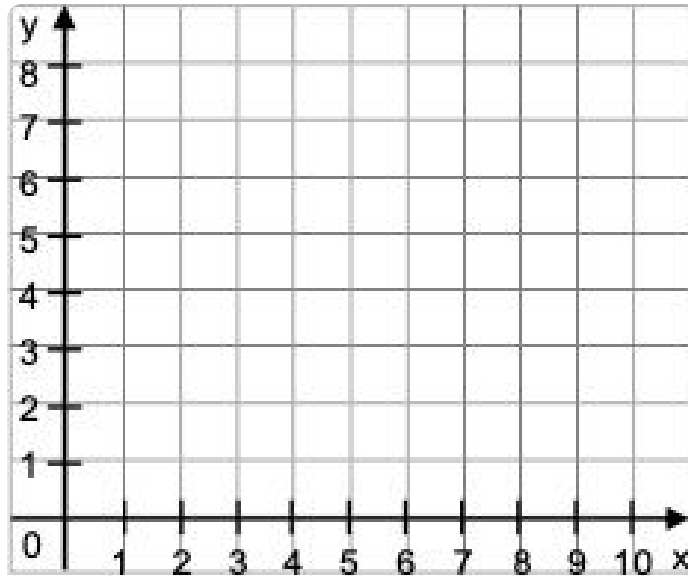
A (1 | 5)

C (4 | 4)

B (2 | 9)

D (10 | 3)

K 4



• Welche Punkte sind in dem Koordinatensystem eingezeichnet?
Ergänze die Koordinaten:

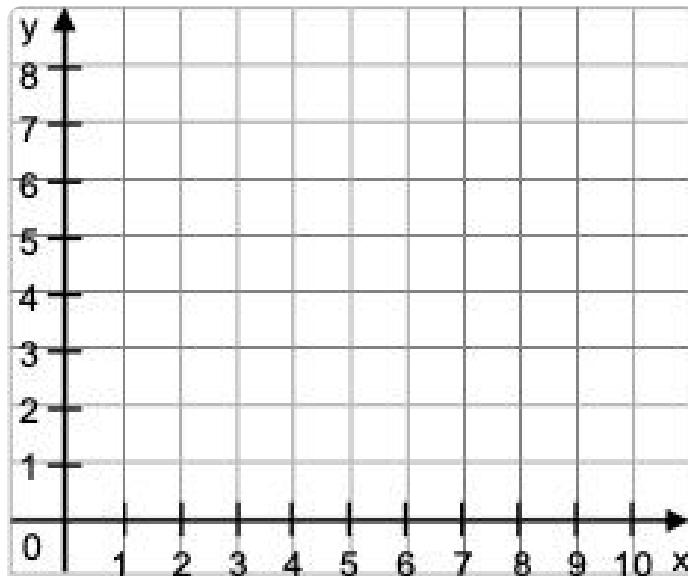
A (|)

C (|)

B (|)

D (|)

K 7




- Zeichne ein Koordinatensystem mit einer x-Achse von 5cm und einer y-Achse von 5cm. Trage in dieses Koordinatensystem folgende Punkte ein.

K 10

A (2 | 1)
B (1 | 4)

C (3 | 4)
D (2 | 2)



- Zeichne in das Koordinatensystem folgende Punkte ein:

A (0 | 0)
B (2 | 2)
C (4 | 4)

K 13

- Kannst du die Punkte miteinander verbinden?
- Wie müsste der nächste Punkt heißen?

D (|)

