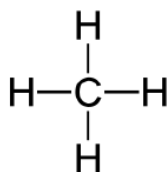







- ① Zeichne zuerst die Lewisschreibweise der beteiligten Atome auf und nutze dann das Bild mit dem gebauten Modell, um die Lewisschreibweise der Verbindungen zu zeichnen.

Beispiel:Methan CH_4 

5.) Aminosäure



1.) HNO

2.) Kohlensäure H_2CO_3 3.) Propadien C_3H_4 4.) NH_2OH 

6.) Cyanwasserstoff HCN



7.) HCOCl

8.) Salpetrige Säure HNO_2 